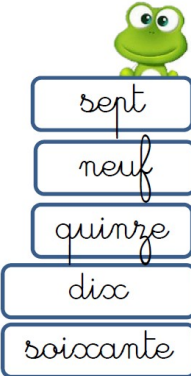


## Nombres et quantités: de 0 à 80

1 Aide-toi des étiquettes pour écrire les nombres

75	
69	
77	



2 Ecris les nombres dans l'ordre décroissant, du plus grand au plus petit:

69 - 79 - 65 - 34 - 45 - 59


□ □ □ □ □ □

## Nombres et quantités : de 0 à 80

1 Complète le tableau des nombres

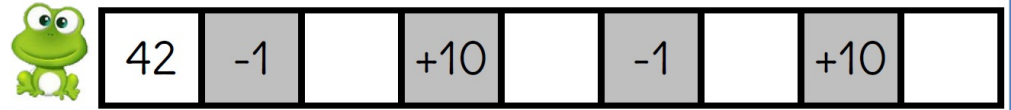
	31							
					46			
		52						
60					65			
								79

2 Trouve combien Arthur a d'argent dans sa tirelire :



## Nombres et quantités: de 0 à 80

1 Calcule puis vérifie en faisant avancer la grenouille.



30	31	32	33	34	35	36	37	38	39
40	41		43	44	45	46	47	48	49
50	51	52	53	54	55	56	57	58	59
60	61	62	63	64	65	66	67	68	69
70	71	72	73	74	75	76	77	78	79

## Nombres et quantités: de 0 à 80

1 Complète

$34 = 30 + 4$       $73 = \_ + \_$       $62 = \_ + \_$   
 $68 = \_ + \_$       $71 = \_ + \_$       $57 = \_ + \_$   
 $47 = \_ + \_$       $55 = \_ + \_$       $74 = \_ + \_$

2 Complète

