

Activités ritualisées

écris en lettre :

6 : 7 :

Dictée de nombres

--	--	--	--	--	--

Calcul mental

Δ double de 2 double de 10

double de 9 double de 3

\otimes $34 + 17 = \dots\dots\dots$

$55 + 21 = \dots\dots\dots$

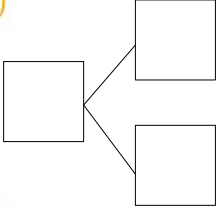
$72 + 27 = \dots\dots\dots$

Problème

Mamie a fabriqué des cookies. Puis, elle a mangé 5 cookies.
Il en reste 12.

Combien de **cookies y avait-il** avant qu'elle ne les mange ?

Je cherche :



Je calcule :

Je réponds : Il y avait cookies.




Apprentissage


vidéo sur les moitiés

Dessine à chaque fois le nombre de billes en les partageant en deux sacs:


8




6




4



12



14



10

