

Activités ritualisées

Dictée de nombres

75	87	63	71	80	76
----	----	----	----	----	----

Devinettes

J'ai 3 dizaines et 2 unités, qui suis-je ?³².....

J'ai 4 dizaines et 0 unité, qui suis-je ?⁴⁰.....

J'ai 3 unités, qui suis-je ?³.....

J'ai 4 unités et 8 dizaines, qui suis-je ?⁴⁸.....

Calcul mental

Δ 25 - 2 =²³.....

14 - 2 =¹².....

28 - 2 =²⁶.....

20 - 2 =¹⁸.....

⊗ ⁵..... + 4 = 9 2 + ⁹..... = 11 7 - ⁴..... = 3


Problèmes

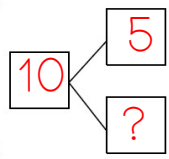
19 ~~8~~ ~~27~~ ~~12~~

- J'ai choisi un nombre.
- Il n'est pas plus petit que dix.
- Ce n'est ni le douze, ni le vingt-sept.

Quel nombre ai-je choisi ?


Léo avait un sachet contenant 10 bonbons.
Il a donné 5 bonbons à Zoé.
Combien de bonbons lui reste-t-il ?

 Je représente l'histoire.

 Ils peuvent dessiner

Je fais le calcul.

$10 - 5 = 5$

 J'écris la réponse.

Il lui reste 5 bonbons.

Apprentissage

vidéo sur les solides (voir le lien dans le mél)

Exercice :

Relie les objets à une de leurs faces :

