











1 Complète les calculs pour obtenir 10.

 $1 + \underline{9}$	 $\underline{0} + 10$	 $\underline{7} + 3$	 $\underline{5} + 5$	 $9 + \underline{1}$
 $8 + \underline{2}$	 $6 + \underline{4}$	 $\underline{1} + 9$	 $4 + \underline{6}$	 $\underline{8} + 2$

2 Complète.

$4 + \underline{6} = 10$


$7 + \underline{3} = 10$

$5 + \underline{5} = 10$

$1 + \underline{9} = 10$

$0 + \underline{10} = 10$

$\underline{8} + 2 = 10$



3 Complète la maison du 10 en recopiant les étiquettes correctes.

$7 + 3$

$3 + 5$

$6 + 2$

$8 + 2$

$6 + 4$

$9 + 1$

