

1) Ecris la date :

2) Dictée de mots :



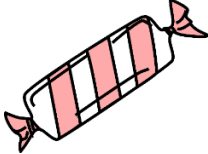
3) Regarde à nouveau la vidéo suivante :






Les centimes d'euros

<https://lesfondamentaux.reseau-canope.fr/discipline/mathematiques/grandeurs-et-mesures/la-monnaie/les-centimes-deuro-entiers-13.html>

4) Pour chaque article dessine les pièces de centimes d'euros qui permettent de les payer :

Articles			
Prix	92 centimes	73 centimes	67 centimes
Pièces			

5) Complète le tableau suivant avec des multiplications :

... X ... = X ... = X ... = ...
		

6) Regarde la vidéo suivante :



<https://lesfondamentaux.reseau-canope.fr/video/les-synonymes.html>

7) Recopie la leçon suivante dans ton cahier de français :



Des mots de sens proches

Qu'est-ce que des synonymes ?

Noms

BATEAU et NAVIRE

Adjectifs

PETIT et MINUSCULE

Verbes

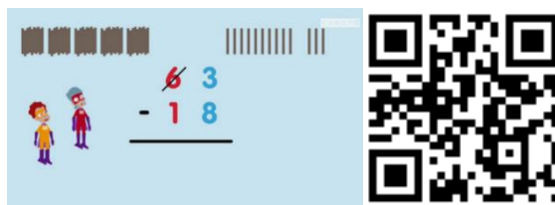
AIMER ET ADORER

8) Relève le défi du quizz en ligne :



<https://quizizz.com/join?gc=9892909>

9) Regarde à nouveau la vidéo suivante :



10) Pose et calcule : $85-66=$

$72-28=$

D	U

D	U

**11) Lecture : lis le texte n°12 de ton livret de lecture
en te faisant chronométrer.**