

Activités ritualisées

Combien j'ai mis au tableau :



Calcul mental

1. Donne le double des nombres

double de 4

double de 10

double de 6

double de 3

2. $27+12 = \dots\dots$ $43+14 = \dots\dots$ $52+27 = \dots\dots$

Problème

Au début du repas, nous étions 9.
Nous sommes 5 à la fin.
Combien de personnes sont parties ?



..... personnes sont parties.

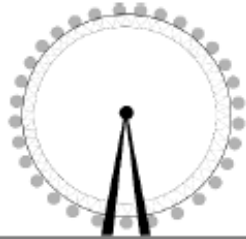


Apprentissage

Complète la bande numérique

	71							78	
--	----	--	--	--	--	--	--	----	--

Observe bien le pris des manèges au parc.

LE PARC

	ENFANT	ADULTE
 La grande roue	6 €	7 €
 Le grand 8	4 €	5 €
 Le manège	2 €	3 €

Combien coûte une entrée pour le grand 8 pour 1 adulte ?

Combien coûte une entrée pour la grande roue pour 1 enfant ?.....

Quelle attraction coûte 7 € ?.....

Quel est le prix total pour une famille avec 1 papa, 1 maman et 1 enfant qui montent sur la grande roue ?

.....

