


Activités ritualisées

Combien j'ai mis au tableau :









Calcul mental

1. $30+3 = \dots$ $10+8 = \dots$ $60+5 = \dots$

2. $20+40 = \dots$ $50+10 = \dots$ $20+20+20 = \dots$

Problème

Dans une trousse il y a 13 feutres. 8 sont rouges, les autres sont bleus.

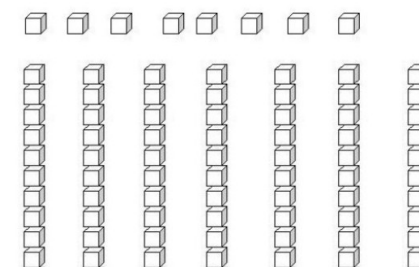

Combien y-a-t-il de feutres bleus?



Il y a feutres bleus.

Apprentissage

1. Ecris le nombre représenté.



2. Lis les calculs à haute voix et complète les égalités.

$60 + 10 = \dots$

$60 + 13 = \dots$

$60 + 15 = \dots$

$\dots + 11 = 71$

$60 + 12 = \dots$

$60 + 19 = \dots$

$60 + 17 = \dots$

$60 + \dots = 78$

Exercice 1 :

$2 + 2 = \dots$

$7 + 7 = \dots$

$3 + 3 = \dots$

$8 + 8 = \dots$

$4 + 4 = \dots$

$9 + 9 = \dots$

$5 + 5 = \dots$

$10 + 10 = \dots$

Exercice 2

$8 - 1 = \dots$

$15 - 2 = \dots$

$7 - 2 = \dots$

$19 - 2 = \dots$

$13 - 1 = \dots$

$16 - 3 = \dots$

$18 - 1 = \dots$

$13 - 3 = \dots$

Exercice 3

$6 + 2 + 4 + 8 + 5$