

1) Ecris la date :

2) Recopie chacun des mots en 5 fois.

Dans : _____

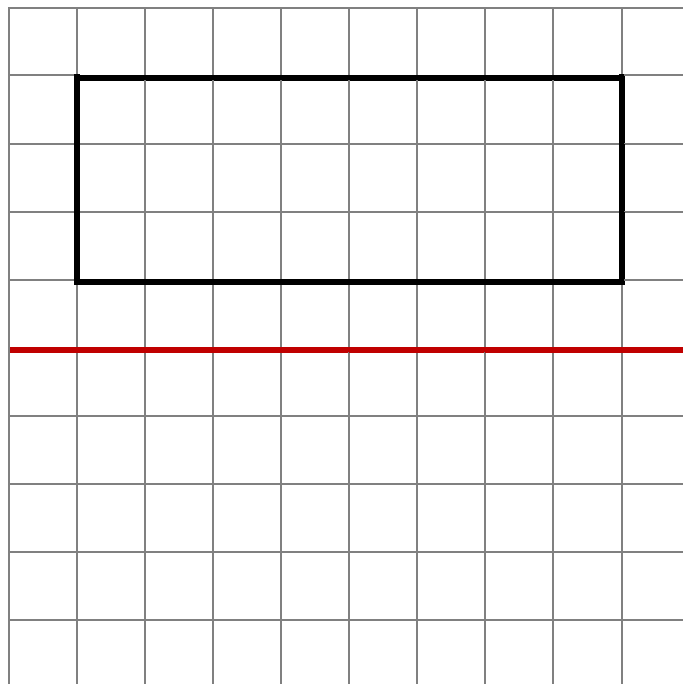
Sur : _____

Il y a : _____

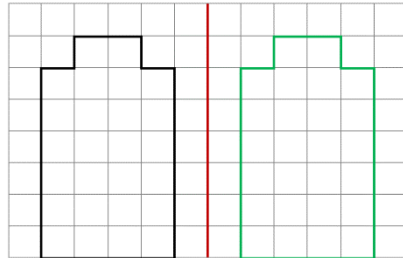
c'est : _____

lui : _____


3) Trace la figure symétrique par rapport à l'axe rouge. (Voir les explications plus bas) :



Deux figures sont symétriques si, lorsque je plie le long de **l'axe de symétrie**, elles se superposent parfaitement. C'est comme si je regarde dans un miroir.




4) Regarde à nouveau la vidéo :



Le verbe ALLER au futur

<https://www.youtube.com/watch?v=M4QVoLcM7NI>

5) Relève le défi du quiz en ligne !



<https://quizizz.com/join?gc=4610808>

6) Relève le défi des calculs en ligne :



<https://quizizz.com/join?gc=5710938>

7) Regarde la vidéo suivante :

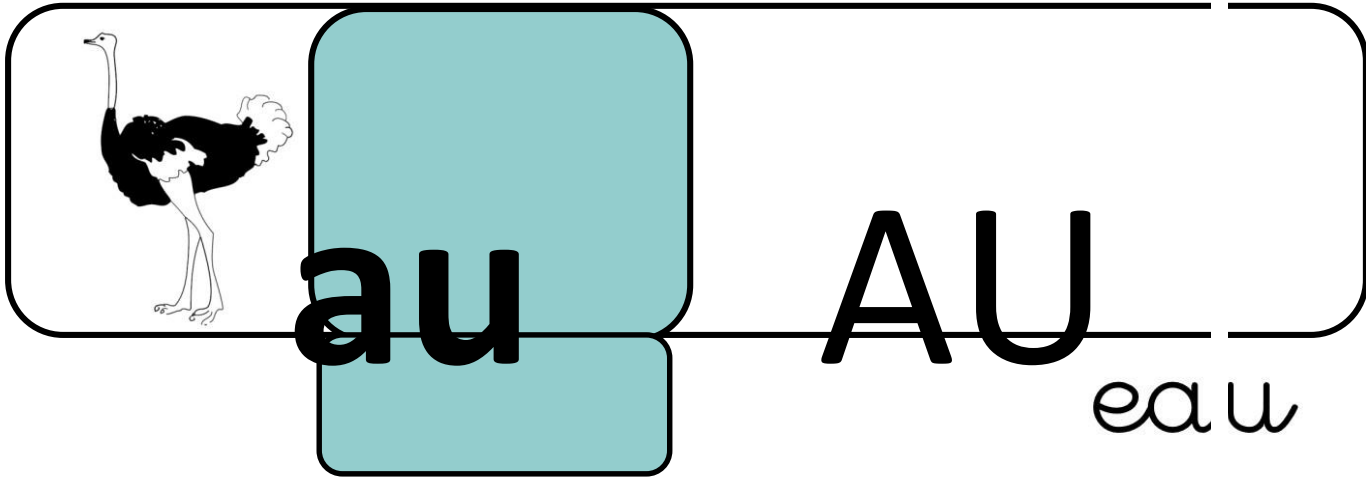


<https://www.youtube.com/watch?v=ZuRCdYnbsIE>

8) Recopie la leçon suivante dans ton cahier de mathématiques :

$3 \times 1 = 3$	$3 \times 2 = 6$	$3 \times 3 = 9$	$3 \times 4 = 12$	$3 \times 5 = 15$
Quels sont les résultats de la table de multiplication par 3 ?				
$3 \times 10 = 30$	$3 \times 9 = 27$	$3 \times 8 = 24$	$3 \times 7 = 21$	$3 \times 6 = 18$

9) Lis à nouveau la fiche de son :



au

eau

EAU

au - è - eau - an - é - au - en -
ai - feau - ei - ph - au - ê - am -
g - au - clau - tau - fau - bau -
dau - pau

beau - deau - neau - teau - peau

j'ai ch**aud** - une **tau**pe - un coute**au** - un
autre une **au**truche - c'est **faux** - **au**tour
- un **seau**

un cade**au** - un châte**au** - un bate**au** - un
morce**au**

un corbe**au** - un taure**au** - le table**au** - un
pote**au**

Aurore dort dans son **beau** land**au**.

Mon père a un **beau** mante**au** et un **beau**
chape**au**.

Quand j'ai fait du bate**au**, je suis tombé à l'**eau**.