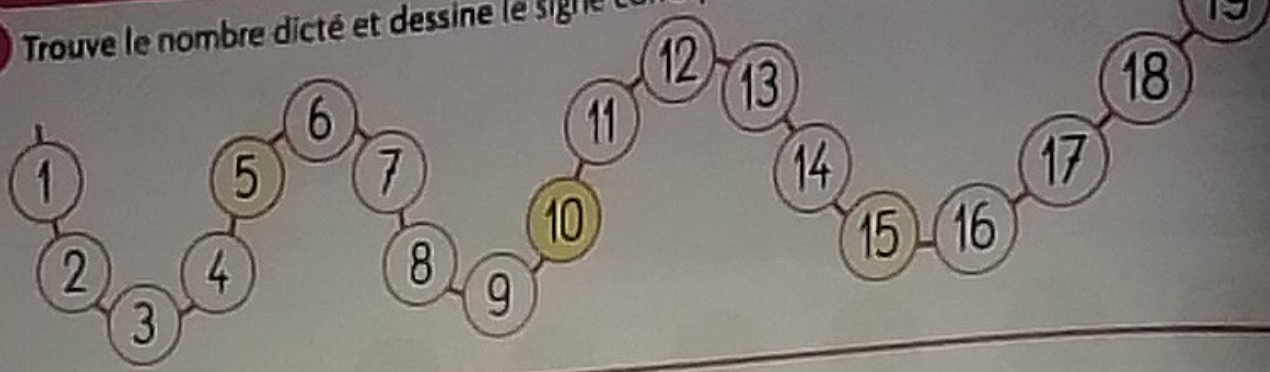


1 Trouve le nombre dicté et dessine le signe



### Comparaison de nombres

2 Entoure chaque fois le plus petit des deux nombres.

8 12      15 10      9 11      16 14      11 13

3 Écris les nombres du plus petit au plus grand.

□ □ □ □

↑  
Le plus petit ici

12 9  
15 13

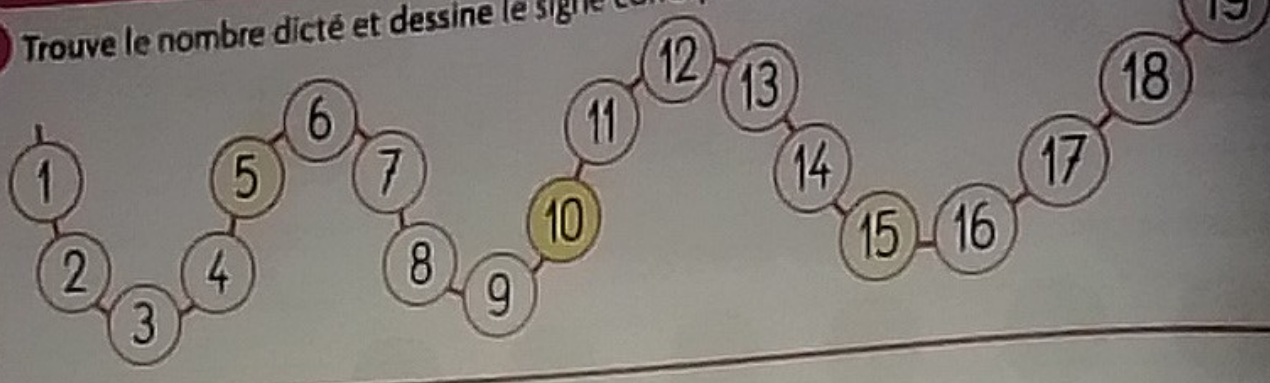
### Signes +, - et =

4 Complète les additions et les soustractions.  
Entoure les résultats que tu connais par cœur.

- |                 |                 |
|-----------------|-----------------|
| $1 + 1 = \dots$ | $1 - 1 = \dots$ |
| $2 + 0 = \dots$ | $5 - 2 = \dots$ |
| $3 - 1 = \dots$ | $3 + 1 = \dots$ |
| $3 - 2 = \dots$ | $2 + 3 = \dots$ |
| $1 + 2 = \dots$ | $4 - 1 = \dots$ |
| $4 + 1 = \dots$ | $4 - 4 = \dots$ |



1 Trouve le nombre dicté et dessine le signe



### Comparaison de nombres

2 Entoure chaque fois le plus petit des deux nombres.

8 12

15 10

9 11


16 14

11 13

3 Écris les nombres du plus petit au plus grand.

9 12 13 15

↑  
Le plus petit ici



### Signes +, - et =

4 Complète les additions et les soustractions.  
Entoure les résultats que tu connais par cœur.

1 + 1 = 2

2 + 0 = 2

3 - 1 = 2

3 - 2 = 1

1 + 2 = 3

4 + 1 = 5

1 - 1 = 0

5 - 2 = 3

3 + 1 = 4

2 + 3 = 5

4 - 1 = 3

4 - 4 = 0

