

3 Complète.

$9 + 3 = \square$

$2 + 8 = \square$

$5 + 6 = \square$


$6 + 8 = \square$

$7 + 7 = \square$






$5 + 9 = \square$

4 Complète.


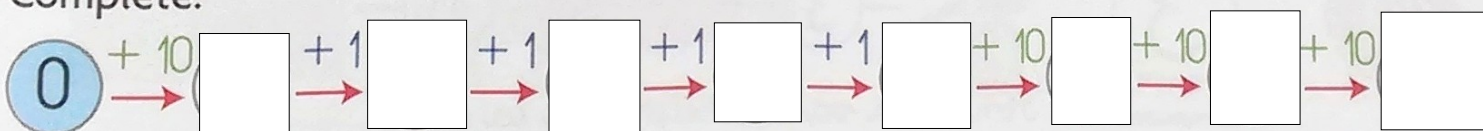
- Je pars de 8, j'avance de 4, j'arrive à
- Je pars de 10, je recule de 3, j'arrive à
- Pour aller de 5 à 9, il faut avancer de
- Pour aller de 10 à 1, il faut reculer de



5 Écris ce qu'affiche le compteur de Gribouille si on ajoute 1 à chaque fois.



6 Complète.



7 Complète.

- 2 dizaines = unités
- 1 dizaine et 16 unités = unités

- 1 dizaine et 10 unités = unités
- 2 dizaines et 11 unités = unités