

## SEMAINE 3 DU LUNDI 20 AVRIL AU VENDREDI 24 AVRIL 2020/CORRECTION

### LES RITUELS

#### CALCUL POSE 1    CALCUL POSE 2

383	534
46 299	27 370
121,00	1 468,66
106,50	83,88
31,44	18,33
838,60	131,00

#### LA PHRASE (fonction, classe grammaticale et conjugaison).

N'oublie pas devoir la fiche explicative avec l'exemple envoyé la semaine dernière !

1) Pendant les vacances, je visiterai le musée.

#### Consigne 1 : fonction

Pendant les vacances, je visiterai le musée.

CDP (temps)      GSGV

#### Consigne 2 : classe grammaticale

Pendant : adverbe                      les : déterminant                      vacances : nom  
Je : pronom personnel                  visiterai : verbe                      le : déterminant  
Musée : nom

#### Consigne 3 : conjugaison

Pendant les vacances, je visiterai le musée. Futur

Présent : Pendant les vacances, je **visite** le musée.

Imparfait : Pendant les vacances, je **visitais** le musée.

Passé composé : Pendant les vacances, j'**ai visité** le musée.

2) Avec curiosité, l'enfant, le jour de son anniversaire, ouvre ses cadeaux.

#### Consigne 1 : fonction

Avec curiosité, l'enfant, le jour de son anniversaire, ouvre ses cadeaux.  
 CDP (manière) **GS** CDP (temps) **GV**

Consigne 2 : classe grammaticale

Avec : adverbe	curiosité : nom	l' : déterminant	enfant : nom
Le : déterminant	jour : nom	de : préposition	son : déterminant
Anniversaire : nom	ouvre : verbe	ses : déterminant	cadeaux : nom

Consigne 3 : conjugaison

Avec curiosité, l'enfant, le jour de son anniversaire, ouvre ses cadeaux. Présent  
 Futur : Avec curiosité, l'enfant, le jour de son anniversaire, **ouvrira** ses cadeaux.  
 Imparfait : Avec curiosité, l'enfant, le jour de son anniversaire, **ouvrait** ses cadeaux.  
 Passé composé : Avec curiosité, l'enfant, le jour de son anniversaire, **a ouvert** ses cadeaux.

**CALCUL REFLECHI**

N°1

<b>31</b>			
7, 5, 2, 6, 9, 75			
7	x	5	= 35
6	-	2	= 4
35	-	4	= 31

N°2

<b>34</b>			
8, 2, 6, 3, 7, 50			
8	x	2	= 16
6	x	3	= 18
16	+	18	= 34

**LECTURE**

1) Carotte et légume ; stylo et encre ; plombier et boîte à outils ; livre et page
2) On parle d'une montagne. Indices : descendre, télécabine, marche, végétation, altitude
3) Raidissement - ballon
4) Sentiment : la frayeur Indices : secousse, tomber à la renverse, épouvantables sensations, on ne sent plus son cœur, s'écroule

**DEFI DE LA SEMMAINE**

1) Anagramme : ROSE
2) Photo à envoyer
3) Devinette : le 1er
4) Devinette : un camion de pompier
5) Image : la peau d'une poire

**ENTRAINEMENTS MATHÉMATIQUES ET FRANÇAIS**

**LES GRANDS NOMBRES**

**(Exercice 10 : les fractions à placer sont : un tiers, sept sixièmes)**

<b>1</b>	a) Deux cinquièmes b) Cinq demis c) Quatre tiers	<b>6</b>	a) $1/2 + 1/2 = 1$ b) $3/4 + 1/4 = 1$
<b>2</b>	a) $7/4$ b) $3/2$ c) $4/10$	<b>7</b>	$1/4$
<b>3</b>	$3/2 > 3/4 > 1/2 > 1/3 > 1/4$	<b>8</b>	$7/4 = 1 + 3/4$
<b>4</b>	$1/3 < 1$ $3/2 > 1$ $2/2 = 1$	<b>9</b>	$1/2 + 1/4 = 3/4$
<b>5</b>	$2 - 7/3 - 8/3 - 3$		

**EN ROUTE VERS LES NOMBRES DECIMAUX**



Ecris le nombre décimal correspondant à la fraction.

$$\frac{5}{10} = 0,5 \quad \frac{12}{10} = 1,2 \quad \frac{35}{10} = 3,5 \quad \frac{59}{10} = 5,9 \quad \frac{22}{10} = 2,2$$

$$\frac{235}{100} = 2,35 \quad \frac{182}{100} = 1,82 \quad \frac{732}{100} = 7,32 \quad \frac{569}{100} = 5,69 \quad \frac{522}{100} = 5,22$$

**GEOMETRIE : LES SOLIDES ET LES PATRONS**

**Exercice 1**

1-1 ; 2-2 ; 3-3 ; 4-4 ; 5-5

**Exercice 2 :** Votre enfant doit avoir réussi à créer un cube

**LEXIQUE**

**Exercice 1 :** Écris les mots génériques puis écris deux mots spécifiques pour compléter chaque série

<b>métier</b>	<b>gâteau (ou dessert)</b>	<b>meuble</b>
coiffeur	éclair	chaise
plombier	clafoutis	lit
chanteur	madeleine	commode
professeur	flan	table
infirmier	tarte	armoire
... (plusieurs réponses possibles)	... (plusieurs réponses possibles)	... (plusieurs réponses possibles)

**Exercice 2 :** Remplace les noms en gras par un nom générique pour éviter les répétitions.

- a) Etienne sort les fourchettes et les couteaux du lave-vaisselle. Il range **les couverts** dans le tiroir.
- b) Grand-mère a ramassé des mûres et des myrtilles. Demain, elle fera des confitures avec **ces fruits (ou ces baies)**.
- c) J'enlève ma casquette, mon manteau et mon écharpe. J'accroche **mes vêtements** au portemanteau.

### **ORTHOGRAPHE : LES HOMOPHONES**

**Ces** vagues sont très hautes ! Il mit un doigt sur **ses** lèvres. Elle range **ses** crayons. As-tu vu **ces** belles chenilles ? Lou passa la main dans **ses** cheveux. **Ces** immeubles sont anciens. Je vais acheter un de **ces** livres. Il a oublié **ses** cahiers chez lui. Il a pris **ses** jambes à son cou ! **Ces** temps-ci, il pleut souvent.

### **ORTHOGRAPHE : DICTEE**

La rue principale, la seule rue goudronnée, envahie par les sables, est déblayée à longueur de journée. À la limite de la ville, les réfugiés, chassés de chez eux par la sécheresse, sont installés sous des tentes de fortune. Depuis vingt ans, la sécheresse a transformé la terre en désert. Le vent a formé sur le sable de véritables vagues, dures comme des pierres. La végétation a reculé, de plus en plus. Les troupeaux ont été décimés. Les hommes ont commencé à désespérer devant leur avenir incertain.

### **SCIENCES/HISTOIRE/GEOGRAPHIE/EMC/ANGLAIS**

#### **L'EXPERIENCE SCIENTIFIQUE : « Eteins le feu comme un pompier »**

Voir la conclusion sur le document élève.









### **HISTOIRE**

- 1) Par qui est remplacé la dynastie des Mérovingiens ? Et en quelle année ? Dyn Carolingiens en 751
- 2) Quel est le nom du roi carolingien qui était reconnu pour être un guerrier redoutable ? CHAR
- 3) Qu'a-t-il imposé en saxe ? Le christianisme
- 4) Qu'a-t-il favorisé et qui te sert aujourd'hui ? L'école
- 5) Où est-il couronné Empereur et par qui ? Rome en 800
- 6) Comment s'appelle le type de lettres qu'il fait imposer pour améliorer les livres ? Les minuscules caroline
- 7) En quelle année, le traité de VERDUN partage les territoires de l'Empire de Charlemagne entre ses descendants ? En 843

### **GEOGRAPHIE/DEVINETTE**

**Réponse :** L'Italie

## ANGLAIS/REVISIONS

	<i>HORSE</i>		<i>PIG</i>
	<i>EASTER HUNT</i>		<i>EASTER EGGS</i>
	<i>COW</i>		<i>SHEEP</i>
	<i>CHOCOLATE</i>		<i>BASKET</i>

## EMC : COMMENT LUTTER CONTRE LE RECHAUFFEMENT CLIMATIQUE ?

1) Le gaz à effet de serre est indispensable au bon fonctionnement de notre planète. Pour quelles raisons ?

- *Il forme un film protecteur autour de notre planète*
- *C'est lui qui permet de réguler les températures*

2) De nos jours pourquoi ce gaz à effet de serre peut-il provoquer des dangers ?

*Il est mis à mal par les mauvaises habitudes des humains : trop de pollution !*

3) Complète ce tableau.

<b>LES RISQUES LIES AU RECHAUFFEMENT CLIMATIQUE</b>	<b>LES ACTIONS QUE NOUS POUVONS METTRE EN ŒUVRE POUR LUTTER CONTRE CE RECHAUFFEMENT</b>
<i>1) Augmentation des températures</i>	<ul style="list-style-type: none"> <li>- <i>Réduire la production des énergies fossiles : gaz, pétrole, charbon</i></li> <li>- <i>Développer les énergies renouvelables : solaire, éolien, hydraulique et biocarburant</i></li> <li>- <i>Lutter contre la déforestation</i></li> <li>- <i>Rénover les habitants aux normes électriques</i></li> <li>- <i>Limiter nos déchets et éviter le gaspillage</i></li> <li>- <i>Favoriser les transports en commun et covoiturage</i></li> </ul>
<i>2) Modification du cycle des vents et des eaux (montée du niveau d'eau des océans, plus de pluie dans certaines régions et au contraire trop de sécheresse dans d'autres) pouvant provoquer des événements climatiques extrêmes</i>	
<i>3) Menace sur la biodiversité : disparition de certaines espèces animales</i>	

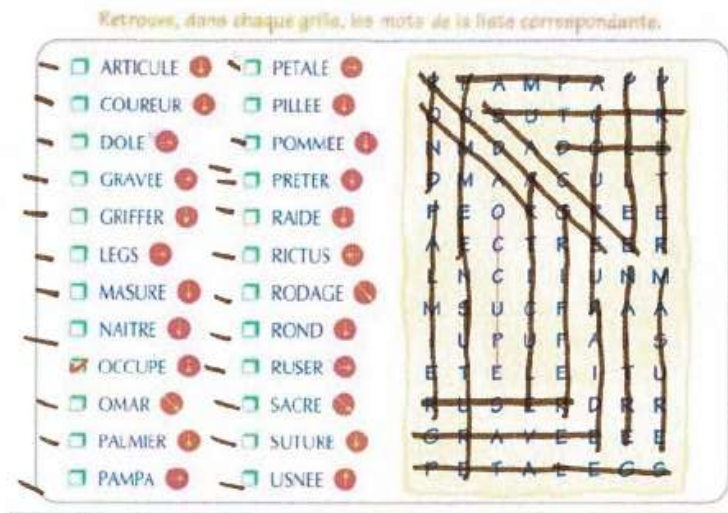
## ACTIVITES SPORTIVES, CULTURELLES ET ARTISTIQUES

Le Personnage Mystère de La Semaine : Pablo PICASSO

## ACTIVITES DETENTES

22 : 7 – 8 – 2 – 5

19 : 7–2 – 4 - 6



DEVOIRS, REVISIONS POUR LA SEMAINE PROCHAINE

**VERBES:** le futur

**TABLES DE MULTIPLICATIONS:** tables de 6, 7 et 8 .

**MOTS INVARIABLES :** Colonnes 1 à 5.