

# Corrigé du Vendredi 10 avril 2020

## Lecture

### Exercice 1 :

**Réponds** aux questions en faisant des phrases.

1) **Qui raconte l'histoire ?**

C'est un enfant qui raconte l'histoire (indice : quand je rentre de l'école)

2) **Que faisait Zouzou quand il était jeune ?**

Il jouait avec tout, il mordillait les chaussons, il lançait ses jouets, il cassait des objets.

3) **Pourquoi maman le grondait-elle ?**

La maman le grondait car il cassait des objets.

4) **Qu'aimait-il faire surtout ?**

Il aimait se promener dans les prés.

5) **Et, maintenant, est-il toujours aussi fou ?**

Non, il joue sagement. (car il est adulte)

6) **L'histoire est-elle racontée au passé, présent ou au futur ?**

Au passé (quand il raconte ce que son chien faisait quand il était petit) et au présent (quand son chien est adulte).

## Les nombres

### Exercice 1 :

**Complète** le tableau comme l'exemple de la 1<sup>ère</sup> ligne

<b>nombre</b>	Nombre suivant	Nombre suivant terminé par 0 (dizaine suivante)
<b>237</b>	<b>238</b>	<b>240</b>
701	702	710
574	575	580
984	985	990

# Calcul

$$\begin{array}{r} 222 \\ + 333 \\ \hline 555 \end{array}$$

$$\begin{array}{r} 248 \\ + 121 \\ \hline 369 \end{array}$$

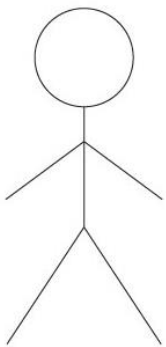
$$\begin{array}{r} 1 \\ 504 \\ + 437 \\ \hline 941 \end{array}$$

$$\begin{array}{r} 1 \\ 908 \\ + 45 \\ \hline 953 \end{array}$$


## Le problème du jour

Maylis distribue des bonbons à ses 5 amis. Elle en donne 9 à chacun.


**Combien de bonbons a-t-elle distribués ?**




**9 bonbons**




**9 bonbons**



**9 bonbons**



**9 bonbons**



**9 bonbons**

**$9 + 9 + 9 + 9 + 9$  ( il y a 5 fois le 9, donc on peut faire une multiplication )**

$$\mathbf{5 \times 9 = 45}$$

**Maylis a distribué 45 bonbons.**