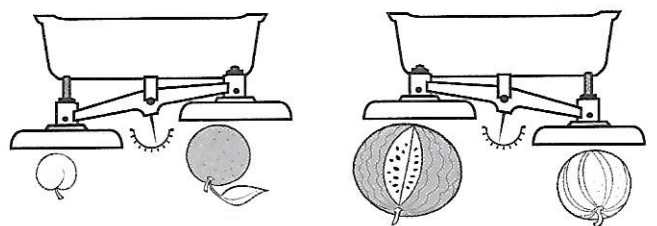


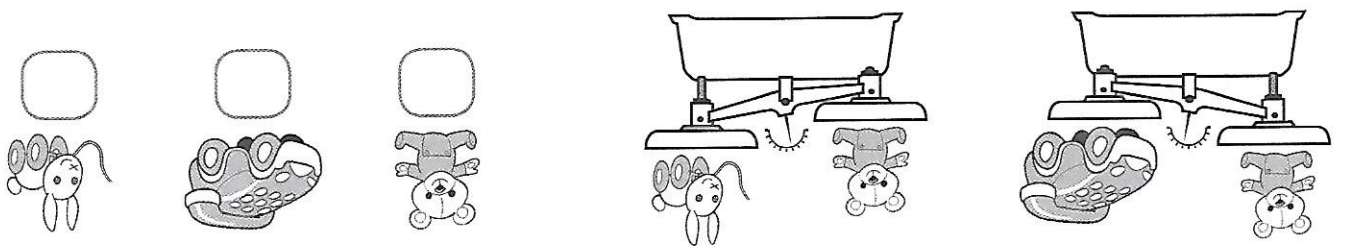
5 Entoure l'aliment le plus léger des deux et complète les phrases.



La pastèque est plus que le melon.

L'abricot est plus que l'orange.


6 Numérote ces jouets du plus léger (1) au plus lourd (3).



LES MATHS DANS LA VIE

7 Quatre amis décident de se peser et de comparer leur masse. Réponds aux questions.

- Qui est le plus lourd ?
- Qui est le plus léger ?
- Qui pèse 20 kilos de plus que Maïa ?
- Quelle est la différence de poids entre les deux garçons ?
- Quelle est la différence de poids entre les deux filles ?



DEFI

8 Colorie en respectant le code couleur « MONDRIAN ».

- Bleu Animal se mesurant en gramme
- Rouge Animal se mesurant en kilogramme
- Jaune Animal se mesurant dans une autre unité

