

Vendredi 12 Juin 2020

Conjugaison

Apprendre la leçon ci-dessous.

Le futur de l'indicatif (« être », « avoir » + 3^{ème} groupe)



Être

je serai	nous serons
tu seras	vous serez
il sera	elles seront

Avoir

j'aurai	nous aurons
tu auras	vous aurez
elle aura	ils auront

Aller

j'irai	nous irons
tu iras	vous irez
on ira	elles iront

Voir

je verrai	nous verrons
tu verras	vous verrez
elle verra	ils verront

Venir

je viendrai	nous viendrons
tu viendras	vous viendrez
il viendra	elles viendront

Faire

je ferai	nous ferons
tu feras	vous ferez
on fera	ils feront

Pouvoir

je pourrai	nous pourrons
tu pourras	vous pourrez
il pourra	elles pourront

Vouloir

je voudrai	nous voudrons
tu voudras	vous voudrez
elle voudra	ils voudront

Exercice 1 : Pour chaque phrase, écris l'infinitif du verbe conjugué. Pour t'aider, tu peux souligner d'abord le verbe. N'oublie pas que pour retrouver le verbe, on utilise « ne pas »

- Nous ferons le chemin ensemble
- Tu verras mieux avec des lunettes.

- c. Elles iront à l'école.
- d. Il fera beau.
- e. Vous viendrez en vélo.

Exercice 2 : Écris les phrases en conjuguant les verbes entre parenthèses au futur.

- a. Nous (aller) sur Mars.
- b. Tu (faire) le voyage en fusée.
- c. Je (venir) te rejoindre en navette spatiale.
- d. Nous (voir) la Terre de l'espace.
- e. Il (faire) froid demain.

Vocabulaire

Exercice 1 : Trouve un synonyme pour chaque mot en gras. Tu peux utiliser le dictionnaire si tu veux.

- a. Les enfants **sages** ont reçu une récompense.
- b. Les trois petits cochons ont **construit** une maison solide.
- c. Vous prendrez votre **voiture** pour nous rejoindre.

Exercice 2 : Corrige l'orthographe du mot en utilisant le dictionnaire.

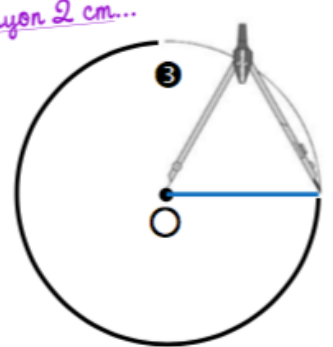
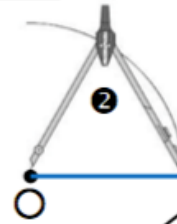
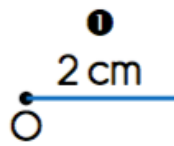
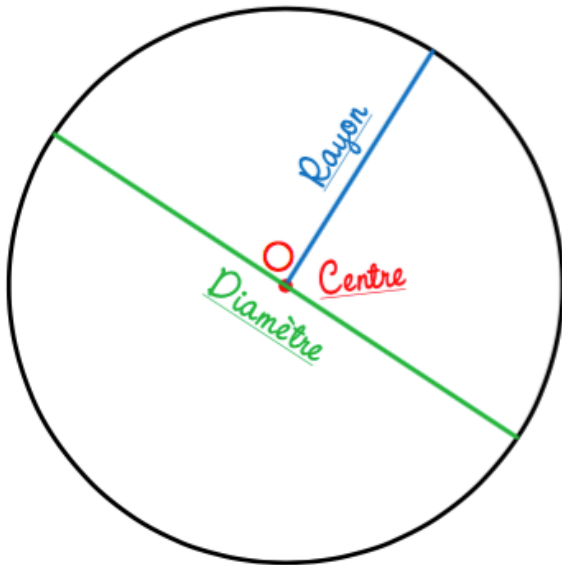
- a. Horeur
- b. Un trin
- c. Le plakard

Géométrie

Le cercle

Pour tracer un cercle de centre O et de rayon 2 cm...

MÉMO
Un cercle a un centre et une infinité de rayons et de diamètres.



- 1 Je trace à la règle un rayon de 2 cm à partir du centre O .
- 2 Je pique mon compas sur le centre O et j'écarte la 2^{de} branche jusqu'à l'autre extrémité du rayon.
- 3 Je n'ai plus qu'à tracer le cercle désiré !

Exercice 1 : Trace un cercle de rayon 3cm.

Numération

Delphine doit choisir un code de sécurité pour son casier de lycée. Celui-ci doit être compris entre 7 580 et 7 608.

Elle hésite entre 7 680, 7 569, 7 590, 7 509, 7 610.

Quel code peut-elle utiliser ?