

Mardi 16 juin 2020

Les rituels

- **Calcul mental** : multiplication par 10, par 100.

Consigne : Calcule en 1 minute les opérations suivantes.

Conseil aux parents : vous pouvez mettre votre chronomètre pendant 1 minute, à la fin de cette minute votre enfant doit s'arrêter et vérifier ses réponses.

$56 \times 10 =$	$61 \times 100 =$	$232 \times 10 =$	$764 \times 10 =$
$765 \times 10 =$	$10 \times 3 =$	$900 \times 10 =$	$801 \times 10 =$

- **Français**. Mes petites phrases.

Consigne : Transforme les phrases suivantes au féminin.

Il est musicien.



Réponse :



Ces hommes sont avocats.

Réponse :

Mon grand frère est infirmier.

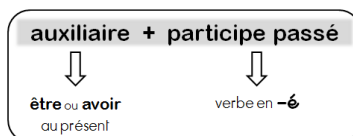


Réponse :

Étude de la langue : conjugaison.

Rappel : le passé composé.

Pour former le passé composé, tu as besoin de l'**auxiliaire être** ou **avoir** au présent et d'un **participe passé** qui se termine par **-é**.



Avec l'auxiliaire ÊTRE : Le participe passé s'accorde avec l'auxiliaire être.

Exemples :

- 1) *Ismaël* est resté à l'école.
- 2) *Elle* est restée à l'école.
- 3) *Nous* sommes restés à l'école.
- 4) *Les filles* sont restées à l'école.

Avec l'auxiliaire AVOIR : Le participe passé ne s'accorde jamais avec l'auxiliaire avoir.

Exemples :

- 1) *Maira* a rangé sa chambre.
- 2) *Ils* ont rangé leurs chambres.

Consigne : Colorie les verbes conjugués au passé composé dans le texte suivant.

Tu es	Il a payé	Elle parlera	Je rêvais
J'ai pensé	Ils ont chanté	Vous avez évacué	Nous avons dépassé
Nous écoutons	Vous êtes allés	Tu as secoué	Elles ont levé

Consigne : Conjugue les verbes suivants au passé composé.

RESTER	TOMBER
Je suis resté	Je suis
Tu es resté	Tu es
Il est resté	Il
Nous sommes restés	Nous
Vous êtes restés	Vous
Ils sont restés	Ils

Manger	DANSER
J'ai mangé	J'ai
Tu as mangé	Tu
Il a mangé	Il
Nous avons mangé	Nous
Vous avez mangé	Vous
Ils ont mangé	Ils

Mathématiques : nombres et calcul.

Consigne : Résous les problèmes suivants.

Attention ! Tu dois bien lire l'énoncé, tu peux faire un schéma pour t'aider.

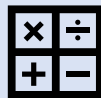


PROBLÈME CE2

Papa range ses billets dans son porte-monnaie.
Il a 7 billets de 5 euros et 1 billet de 10 euros.
Combien d'argent a-t-il au total ?

Recherche / Calcul :

Phrase réponse :




PROBLÈME CE2

Noah a 120€. Il veut acheter des paquets de gâteaux à 6 €.
Combien peut-il acheter de paquets ?

Recherche / Calcul :

Phrase réponse :



PROBLÈME CE2

Tamara colle des autocollants dans son album. Sur chaque page, elle colle 6 autocollants. Elle a rempli 4 pages. **Combien d'autocollants a-t-elle collés ?**

Recherche / Calcul :

Phrase réponse :