

FICHER DE MME RIVIERE

Jeudi 30 avril 2020

Les rituels

Mes petites phrases

1) Ma maîtresse travaille beaucoup le week-end.



Consigne : Réécris cette phrase avec : « mes maîtresses »

=









2) Une plume vole dans le ciel : elle tombe sur le rebord
d'une fenêtre.



Consigne : Réécris cette phrase avec : « Des plumes »

=

Calcul mental

 $13 + \quad = 100$ 	 $74 + \quad = 100$ 
 $58 + \quad = 100$ 	 $60 + \quad = 100$ 

FICHER DE MME RIVIERE

Français - Étude de la langue - Conjugaison :
l'imparfait des verbes avoir et être.

Rappel :

À **l'imparfait**, les verbes **avoir** et **être** ont les mêmes terminaisons que les autres verbes.

<i>J'</i>	avais	<i>J'</i>	étais
<i>Tu</i>	avais	<i>Tu</i>	étais
<i>Il / Elle</i>	avait	<i>Il / Elle</i>	était
<i>Nous</i>	avions	<i>Nous</i>	étions
<i>Vous</i>	aviez	<i>Vous</i>	étiez
<i>Ils / Elles</i>	avaient	<i>Ils / Elles</i>	étaient

Consigne : Complète les phrases avec le verbe avoir à l'imparfait.

- 1) J' une maison et toi tu un igloo.
- 2) Il une tente et nous un tipi.
- 3) Vous une voiture et elles une caravane.
- 4) Tu un château, nous un appartement.

Consigne : Complète les phrases avec le verbe être à l'imparfait.

- 1) J' ici et toi tu là-bas.
- 2) Elle au loin et nous, nous tout près.
- 3) Vous là-bas, mais eux(ils) plus loin.
- 4) Ils à droite et nous à gauche.

FICHER DE MME RIVIERE

Mathématiques - Nombre et calcul : les problèmes.

Exercice 1 : Consigne : Pour chaque question, colorie l'opération à effectuer et complète la phrase .

Kimou a 9 ans. Dans son portemonnaie, elle a 36 euros. Son camarade de classe Ismaël, qui a 8 ans, a 4 euros de moins qu'elle. La meilleure copine de Kimou s'appelle Nour : elle a 5 mois de moins qu'elle et deux fois plus d'argent dans son portemonnaie. Il manque 10 euros à Kimou pour s'acheter son jeu vidéo.

a) Combien d'euros a Ismaël ?

$36 - 12$	$36 + 4$	$36 - 4$
-----------	----------	----------

Ismaël a _____ euros.

b) Combien d'euros à Nour ?

$36 + 2$	$36 + 7$	36×2
----------	----------	---------------

Nour a _____ euros.

c) Combien coûte le jeu vidéo ?

$36 - 10$	$36 - 8$	$10 + 36$
-----------	----------	-----------

Le jeu vidéo coûte _____ euros.

FICHER DE MME RIVIERE

Exercice 2 : Consigne : Lis l'énoncé. Peut-on répondre aux question ?

Joachim achète un livre de 48 pages et un livre de 72 pages qui coûte 8 euros.

	<u>OUI</u>	<u>NON</u>
Combien de livres achète Joachim ?		
Quel âge à Joachim ?		
Combien va-t-il payer en tout ?		
Si Joachim lit les deux livres, combien de pages aura-t-il lues en tout ?		
Quand Joachim aura-t-il fini de lire les livres ?		

Imagine, dessine et colorie : À quoi rêve cette petite fille ?

