

**CALCUL MENTAL**

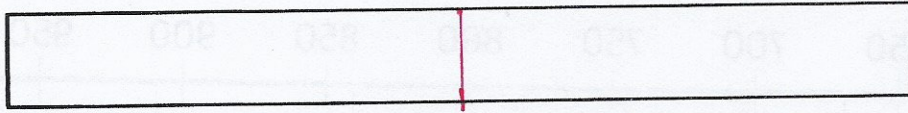
Énoncer des phrases du type : « J'ai un chat qui pèse 3 kg et un lion qui pèse 253 kg. Combien pèsent-ils à eux deux ? »

.....

.....

.....

- 1 Nino veut décorer sa baguette magique. Il veut tracer un trait doré exactement au milieu de sa baguette.  
 Marque l'endroit où Nino doit tracer le trait doré.



Utilise une bande de papier de la longueur de la baguette pour t'aider.

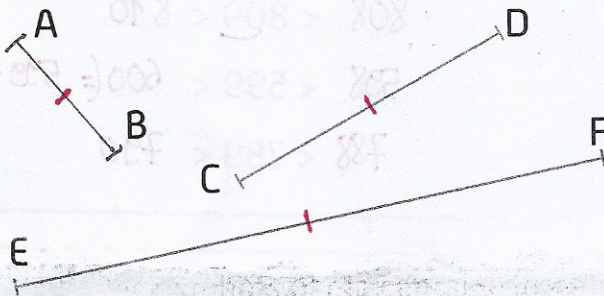


La baguette mesure 12 cm.

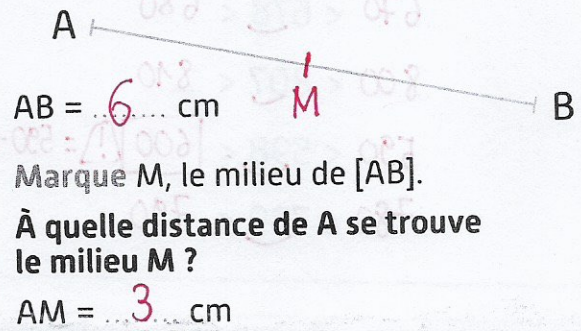
À quelle distance de chaque bout de la baguette Nino doit-il tracer le trait ?

Nino doit tracer le trait à 6 cm de chaque bout de la baguette.

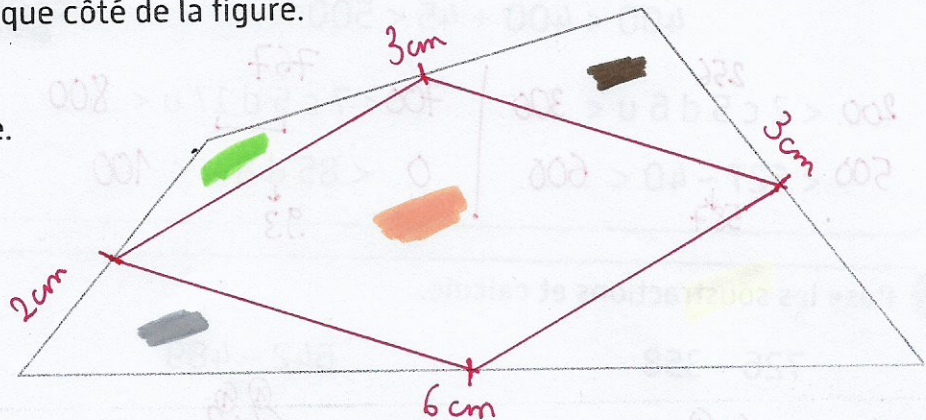
- 2 Marque le milieu de ces segments. Tu peux t'aider du matériel de ton choix.



- 3 Mesure puis complète.



- 4 Marque le milieu de chaque côté de la figure. Relie tous les milieux. Colorie chaque zone d'une couleur différente.



- 5 Écris en lettres.

875 : huit cent soixante-quinze

993 : neuf cent quatre-vingt-treize