

TRAVAIL DU VENDREDI 19 JUIN 2020

1) JOGGING D'ÉCRITURE :

Tu te réveilles dans la peau de ta star(=vedette) préférée. Raconte ta journée.

2) DICTÉE :

La dictée se trouve dans le corrigé. Demande à quelqu'un de te la lire. Applique-toi au maximum !

(N.B. : La dictée a déjà été faite en classe).

3) VOCABULAIRE : Le champ lexical

Rappel : le champ lexical, c'est l'ensemble des mots qui « font penser » à la même idée.

Ex : bateau, vague, poisson font partie du champ lexical de la mer.

Les exercices suivants sont à faire sur ton cahier.

Exercice 4 : À quels champs lexicaux appartiennent les mots de chaque liste ? Entoure la bonne étiquette.

- sapin - chêne - noisetier - peuplier
→ arbre fleur
- chaussons - tutu - pas - ballet
→ danse musique
- rivière - mer - inondation - fontaine
→ campagne eau

Exercice 5 : Recopie et complète la liste avec deux mots qui appartiennent au même champ lexical.

- squelette – genou – cœur –
- craie – feutre – stylo –
- ours – cerf – loup –

Exercice 6 : Écris trois mots appartenant aux champs lexicaux suivants.

- la météo
- le sport

Exercice 7 : Recopie et complète ce texte avec le champ lexical du sommeil : ronfler – cauchemars – oreiller – sieste – dormir

Mon grand-père pose sa tête sur l'..... et aussitôt il se met à C'est l'heure de sa quotidienne ! La nuit, d'horribles l'empêchent de

4) CALCUL MENTAL

Complète avec 10 , 100, 1 000 (pense à bien regarder combien de zéros « ont disparu » dans le résultat). Tu as 2 min. A la fin, compte ton score.

a) 7 300 : = 730	f) 10 000 : = 10
b) 1 200 : = 12	g) 450 000 : =450
c) 70 000 : = 70	h) 950 000 : = 9 500
d) 4 200 : = 42	i) 845 000 : = 84 500
e) 9 000 : = 9	j) 40 000 : = 400

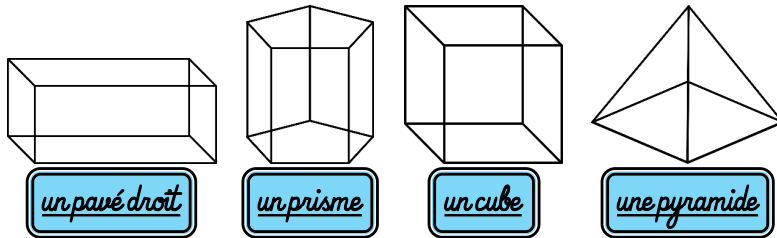
...../10

5) GÉOMÉTRIE : les solides

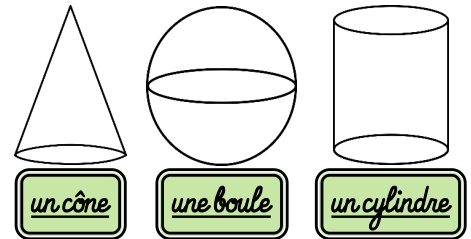
Un **solide** est une figure en 3 dimensions. On peut le voir sous toutes ses faces

On classe les solides en 2 catégories

Les polyèdres sont des solides dont toutes les faces sont des polygones.

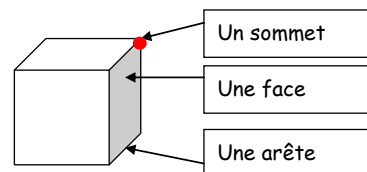


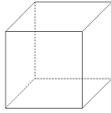
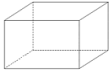
Les non-polyèdres sont des solides ayant des bases arrondies et une surface courbe.



Pour décrire un solide, il faut indiquer :

- le nombre d'arêtes,
- le nombre de sommets,
- le nombre de faces (et leurs formes)



le cube		6 faces carrées 8 sommets 12 arêtes
le pavé		6 faces rectangulaires 8 sommets 12 arêtes

Les exercices interactifs : clique sur le lien ci-dessous

<https://www.assistancescolaire.com/eleve/CM1/maths/reviser-une-lecon/reconnaitre-et-classer-des-solides-9ms03b#exerciceent1>

6) LECTURE :

Voici une enquête de l'inspecteur Lafouine. Tu dois :

- a) Lire le texte à haute voix (plusieurs fois) sans « buter ... (fluide).
- b) Répondre à la question ci-dessous (en expliquant ta réponse)

22 - « Le coup du chêne »

Pierre Caillou, un célèbre banquier parisien vient d'être retrouvé dans le parc de son château. Comme tous les matins, il faisait son jogging en forêt quand la chute d'un chêne tricentenaire lui a coupé son élan et fracassé le crâne.

L'inspecteur Lafouine recherche des indices dans la clairière où a eu lieu le drame. Il découvre que l'arbre a été scié à la base avec une tronçonneuse et qu'un ingénieux mécanisme a permis au meurtrier d'activer la chute du chêne au moment voulu. La mort de Pierre Caillou ne doit rien au hasard !

Les alarmes et caméras de surveillance, positionnées sur les murs d'enceinte, n'ont rien décelé d'anormal depuis des mois. Le coupable ne peut être qu'un habitué du domaine.

De retour au château, Lafouine s'installe dans la bibliothèque et demande aux six occupants de la maison de venir le rejoindre.

Le premier à se présenter est **Jacques** Caillou, le fils aîné de la victime. Il s'avance doucement, pose ses béquilles puis s'assoit dans un fauteuil pour soulager sa jambe plâtrée. Passionné d'équitation, il est tombé de cheval la semaine dernière en voulant franchir un ruisseau.

Henri, son fils, vient se placer à côté de lui. En classe de sixième au collège Saint-Joseph, il a été autorisé à s'absenter pour assister à l'enterrement de son grand-père. Assez petit pour son âge, il porte un costume sombre qui lui donne un air sévère.

Marthe, la femme du défunt, entre à son tour. Très mince dans sa longue robe noire, elle paraît marquée par la mort de son mari. **Vincent**, son second fils, l'aide à s'asseoir dans un canapé. Pour sa part, il choisit de rester debout près de la cheminée. Architecte dans un grand cabinet parisien, il était venu passer quelques jours au château familial.

Suzanne, la gouvernante, au service de la famille Caillou depuis plus de trente ans, a visiblement du mal à trouver sa place. Après quelques instants d'hésitation, elle finit par prendre place sur une chaise.

Harry Cover est le dernier à entrer. C'est un américain arrivé la veille de New York. Il venait régler une affaire importante avec le banquier.

L'inspecteur Lafouine n'a pas besoin d'un long interrogatoire pour connaître le coupable. Il est évident que cela ne peut être que... **Qui est le coupable ?**