






Evaluation mathématiques

Semaine 4

1°) Dictée de nombres de 0 à 59

--	--	--	--	--	--	--	--	--	--

2°) Calcule la somme des points. N'oublie pas d'écrire la phrase mathématique !

	<u>Phrase mathématique :</u>
	<u>Phrase mathématique :</u>
	<u>Phrase mathématique :</u>
	<u>Phrase mathématique :</u>
	<u>Phrase mathématique :</u>

4°) Calcule à l'aide de ta bande numérique :

0	1	2	3	4	5	6	7	8	9	10	11	12	13	14	15	16	17	18	19	20
---	---	---	---	---	---	---	---	---	---	----	----	----	----	----	----	----	----	----	----	----

$19 - 6 = \dots$

$17 - 5 = \dots$

$12 - 9 = \dots$

$11 - 9 = \dots$

$16 - 8 = \dots$

$13 - 5 = \dots$

$17 - 6 = \dots$

$12 - 2 = \dots$

$19 - 7 = \dots$

$14 - 3 = \dots$