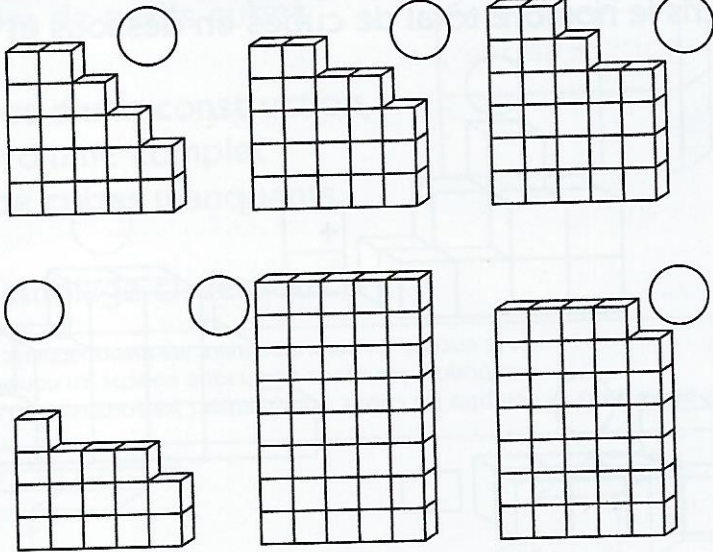



Les murs

Le maçon construit un mur de cubes de verre pour aménager une douche.

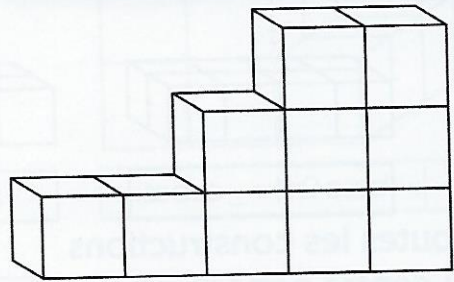
- Classe les différentes étapes par ordre chronologique (① à ⑦).
- Colorie les cubes qui ont été rajoutés à chaque étape.



jeu de logique 298 ▶▶

Le maçon doit aussi monter un mur plus bas. Sur le dessin ci-contre, il a déjà posé la base du mur. Il a également atteint la bonne hauteur. Imagine le reste du mur.

Combien manque-t-il de cubes ?



jeu de logique 299 ▶▶

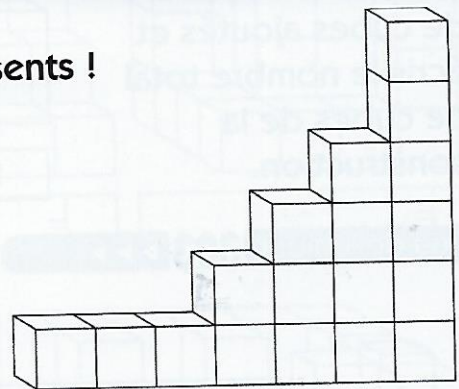
Le mur ci-contre est à peine entamé. Imagine le mur terminé. Il est plus facile de compter les cubes présents qu'absents !

Combien y a-t-il de cubes sur le dessin ?

Écris le calcul

• qui indique combien il y en aura à la fin : _____ =

• qui dit combien il en manque : _____ =



jeu de logique 300 ▶▶▶

Compte ce qui manque en employant la meilleure stratégie. Le cas échéant, écris le calcul que tu as fait.

