

## Mardi 21 avril : corrections du français

### ① Conjugaison : révision du présent de l'indicatif

#### Activité 1 *Je complète les formes verbales.*

Comprendre comment se forment les verbes et orthographier les formes verbales les plus fréquentes.

Complète le tableau.

	ÊTRE	AVOIR	ALLER	FAIRE
Je ou J'	suis	<b>ai</b>	<b>vais</b>	fais
Tu	<b>es</b>	<b>as</b>	<b>vas</b>	fais
Il, elle, on	est	a	va	<b>fait</b>
Nous	<b>sommes</b>	avons	<b>allons</b>	faisons
Vous	<b>êtes</b>	<b>avez</b>	allez	<b>faites</b>
Ils, elles	sont	<b>ont</b>	<b>vont</b>	<b>font</b>

### ④ Grammaire : la ponctuation du dialogue (à faire après avoir relu la leçon correspondante dans le cahier rouge )

- « alors les filles, on se promène ? demande ma tante en nous croisant dans la rue.
- Tu sais bien que nous sommes en vacances, nous partons à la plage.
  - Le temps est splendide, profitez en bien ! nous répond-elle avec un grand sourire. »

### 3 Lecture compréhension et production d'écrit :



20 minutes

autonomie

#### Activité 1 Je rédige la suite d'une histoire.

Identifier les caractéristiques propres à différents genres de textes. Mettre en œuvre une démarche de production de textes.

Lis cette histoire.

Cet été, pour la première fois, **Ismaël part en camping-car avec Mamito et Papygégé** faire du camping sauvage ! **Après quelques heures de route,** Papygégé trouve un emplacement de rêve **dans un bosquet au bord d'un lac.** Une route étroite, cahoteuse, pleine de nids de poule leur garantit la tranquillité recherchée dans ce genre d'étape. La nuit venue, le diner pris, **Ismaël et ses grands-parents** font un jeu de société lorsqu'une tempête se lève soudainement... **En quelques minutes, les éléments se déchainent, les arbres craquent, le vent mugit dans les branchages,** une longue plainte glaciale se fait entendre, c'est alors que le camping-car s'affaisse du côté droit. L'intrépide Papygégé décide de sortir voir ce qui se passe...

Réponds aux questions et entoure dans le texte les indices qui te permettent de répondre.

★ Quel sont les personnages principaux de cette histoire ?

Les personnages principaux sont un petit garçon et ses grands-parents.

★ Quels sont leurs noms ?

Leurs noms sont : Ismaël, Mamito et Papygégé.

★ Où se passe cette histoire ?

Elle se passe dans la campagne, dans un bosquet au bord d'un lac.

★ À ton avis, qui a émis la longue plainte glaciale ?

C'est probablement le vent.

★ À ton avis, pourquoi le camping-car s'est affaissé du côté droit ?

Il peut y avoir plusieurs explications : peut-être que le camping-car est en train de glisser dans le lac..


Selon tes dernières réponses, **invente** deux ou trois actions qui pourraient se passer :

Chacun peut inventer sa propre suite...

## Mardi 21 avril : corrections des mathématiques

### ① Géométrie : les solides . Lis la leçon et fais l'exercice


#### 1 \* Retrouve les solides qui ne sont pas des polyèdres.



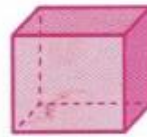
A



B



C



D



E




F

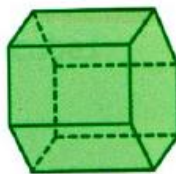
Les solides qui ne sont pas des polyèdres sont le C et le E car ils peuvent rouler.

#### 2 \* **PROBLÈME** Qui suis-je ?

a. J'ai 5 faces et 8 arêtes.



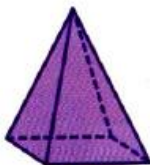
A



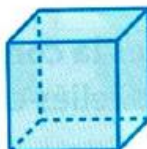
B



C



D



E

b. Quelles sont les formes de mes faces ?  
Quel est mon nom ?

Réponses :

Je suis le solide D

J'ai 4 faces  
triangulaires et une  
face carrée

Je suis une  
pyramide à base  
carrée

**③ calcul : pose les additions suivantes**

$$\begin{array}{r} \textcircled{1} \\ 87.239 \\ + 10.546 \\ \hline 97.785 \end{array}$$

$$\begin{array}{r} \textcircled{1} \quad \textcircled{1} \quad \textcircled{1} \\ 56.802 \\ + 37.418 \\ \hline 94.220 \end{array}$$

$$\begin{array}{r} \textcircled{1} \quad \textcircled{1} \quad \textcircled{1} \\ 21.587 \\ + 32.643 \\ \hline 54.230 \end{array}$$

**④ Calcul réfléchi****Activité rituelle – Mathématiques – Nombres et calculs****Activité** *Je complète des carrés magiques.*

Utiliser des stratégies de calcul.

175	-	75	=	100
-		-		-
100	-	25	=	75
=		=		=
75	-	50	=	25

45	+	15	=	60
-		+		-
30	-	15	=	15
=		=		=
15	+	30	=	45