

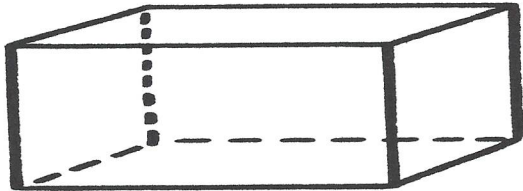



Géométrie

Fiche 3

Les solides : le pavé

1 Je compte le nombre de sommets, de faces. Je complète la définition.



Nombres de faces : _____







Nombre de sommets : _____

Nombre d'arêtes : _____

Un pavé a _____ faces, _____ sommets et _____ arêtes.

Toutes ses faces sont des _____ ou des _____.

2 J'entoure tous les pavés.





Géométrie

Fiche 4

Les solides : le pavé

1

Je découpe le patron du pavé et j'essaie de le construire en pliant sur les traits

