




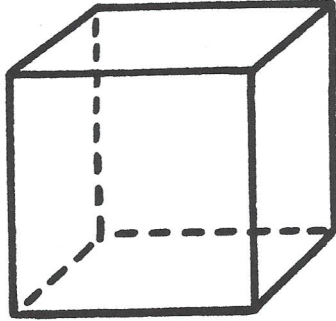
Géométrie

Fiche 1

Les solides : le cube

1

Je compte le nombre de sommets, de faces. Je complète la définition.



Nombres de faces : _____

Nombre de sommets : _____





Nombre d'arêtes : _____

Un cube a _____ faces, _____ sommets et _____ arêtes.

Toutes ses faces sont des _____.

2

J'entoure tous les cubes.





Géométrie

Les solides : le cube

1 Je découpe le patron du cube et j'essaie de le construire en pliant sur les traits

