

prénom _____

Date _____

date _____

Correction .

Lecture et Orthographe les différentes graphies du son [k]

Lis les phrases et Classe les mots suivants dans le tableau .

1. Mercredi, j' ai acheté des carottes et des cerises .
2. Les koalas et les kangourous sont des animaux qui vivent en Australie .
3. Cette année, beaucoup de ces animaux sont morts dans les incendies des forêts .
3. Combien coûte ton bracelet ?
4. Elle a pris un paquet de quatre kilos de grains .
5. Le coq, le canard ,le cochon, la vache et le cheval sont des animaux de la ferme.
6. Qui est là ?

c	q	k
mercredi	paquet	koalas
carottes	quatre	kangourous
beaucoup	Qui (qui)	kilos
Combien		
Coûte		
coq		
canard		
cochon		

[k] → q q

qu - qu - Qu

lecture



syllabes

un
masque

qua	que	qui	quen	quin	quel	quoi	queu	quan
qua	que	qui	quen	quin	quel	quoi	queu	quan

mots :

qua tre

un re qu in

la mu si que

une cas qu et te

qua tor ze

qu it ter

le ci r que

une é ti que tte

qua ran te

en plas ti que

ma gi que

des bri que s

le qu ai

l'é qu i li bre

une bar que

une cli ni que

phrases :

Que re mar que s - tu ?

Quelle est la marque de sa raquette ?

Pour qui est ce bou qu et ?

Les qu in ze jou eurs de l'équipe sont pr ê ts.

J'ai re ç u ton pa qu et hier.

Elle nous ta qu i ne, elle se mo que de nous.

Où a s - tu pi que - ni qué ?

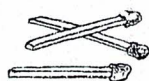
Je l'ai vu dan s une bou ti que du qu ar tier.

Papa passera à la banque avant qu'elle ferme.

Papa passera à la banque avant qu'elle ferme.

è è	ê ê	ai ai	e e
-----	-----	-------	-----

➔ ① Coche où tu entends le son [ɛ]. Barre l'intrus.


☐ ☐ ☐ ☐

☐ ☐ ☐ ☐

☐ ☐ ☐ ☐

☐ ☐ ☐ ☐

☐ ☐ ☐ ☐

➔ ② Relie.



- une sucette •
- un verre •
- une fenêtre •
- une maison •
- une échelle •
- une pelle •
- une poubelle •



→ Yousif Jellis, Belin.

➔ ③ Complète avec bai, lai, mai, rê, rê, mé, ré, zé, bé, lé ou let.



la fo__t



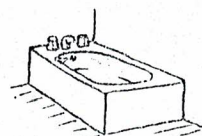
le ba__



la __ son



le __ bre



la __ gnoire

④ Complète les mots avec é, è, ê, ai ou è.

a) Pour Noël, j'ai reçu beaucoup de cadeaux.

b) Il y a de la neige sur les toits des maisons.

c) Le bébé me sa mure.

d) La mère ne veut tuer Blanche-Neige.

e) Le chiot boit son lait.

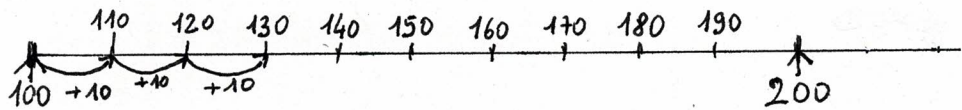
f) Hier, j'ai fait un très beau rêve.

prénom _____

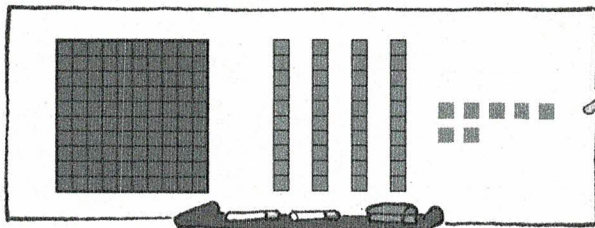
Complète la suite des nombres

	100	101	102		104		106		108	109
+10	110	111	112		114		116		118	119
+10	120			123				127		129
	130		132		134		136		138	
		141		143				147		149
	150				154				158	
		161				165				169
	170			173			176			179
	180									
	190									199
	200	204	202			205				209
	210				214			217		219
	220			223			226			229

Centaines, dizaines et unités (1)



Je comprends



Le vert pour les centaines,
le rouge pour les dizaines,
et le bleu pour les unités.

chiffre
des centaines

chiffre
des dizaines

chiffre
des unités

$$1 \text{ centaine} + 4 \text{ dizaines} + 7 \text{ unités} = 147$$


$$100 + 40 + 7 = 147$$

En tout, il y a 147 carrés.

c	d	u
1	4	7

J'applique

1 Complète.



1 centaine


3 dizaines

2 unités

En tout, il y a

c	d	u
<u>1</u>	<u>3</u>	<u>2</u>

carrés



1 centaine

2 dizaines

4 unités

En tout, il y a

c	d	u
<u>1</u>	<u>2</u>	<u>4</u>

carrés

2 Complète comme dans l'exemple.


• 107, c'est 1 centaine, 0 dizaine et 7 unités.

• 104, c'est 1 centaine, 0 dizaine et 4 unités.

• 150, c'est 1 centaine, 5 dizaines et 0 unité.

• 184, c'est 1 centaine, 8 dizaines et 4 unités.

• 101, c'est 1 centaine, 0 dizaine et 1 unité.



prénom : _____



date _____

3 Entoure :

• le chiffre des centaines.

• le chiffre des dizaines.

• le chiffre des unités.



4 Calcule.

(je "recompose" le nombre)

$$100 + 40 + 5 = 145$$

$$100 + 60 + 9 = 169$$

$$100 + 30 = 130$$

$$100 + 8 = 108$$



5

Décompose chaque nombre.



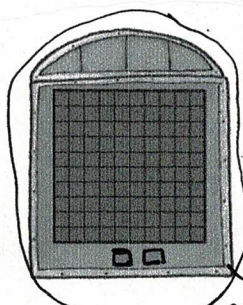
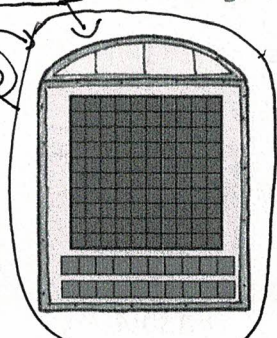
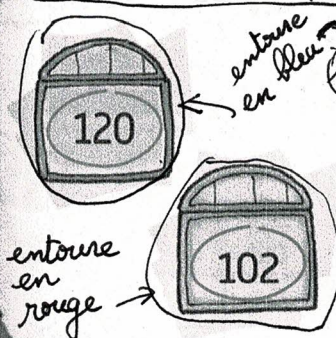
$$155 = 100 + 50 + 5$$

$$124 = 100 + 20 + 4$$

$$193 = 100 + 90 + 3$$

$$102 = 100 + 2$$

6 Entoure en bleu ce qui fait 120 et en rouge ce qui fait 102.



7 Écris un nombre qui convient.

Je suis entre 100 et 199.

Le chiffre de mes centaines et le chiffre de mes unités sont identiques.



Je suis 151

J'approfondis

très important.

Tu gagneras du temps si tu barres d'abord les plaques ou les barres en trop !

8 Barre ce qui est en trop pour que le dessin corresponde au nombre demandé.

