



CALCUL MENTAL

Énoncer des sommes de plusieurs petits nombres : $8 + 2 + 3$, etc.

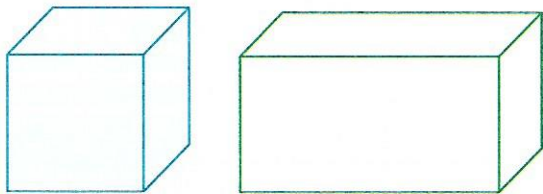


Manipulation
Guide p. 148

1 Entoure les cubes en rouge et les pavés en bleu.



2 Colorie d'une couleur différente chaque face visible de ces solides.
Dessine un point noir sur chaque sommet visible.

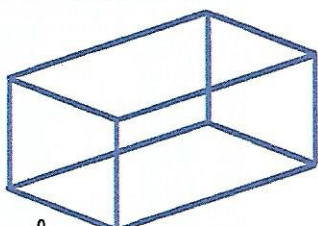


3 Complète.

	Je vois	Je ne vois pas
Le cube faces sommets faces sommets
Le pavé faces sommets faces sommets

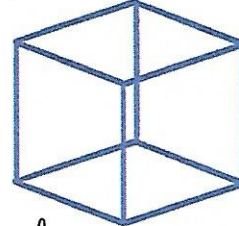
4 La maîtresse veut écrire la description du cube et du pavé. 6 Écris à sa place.

Le



Il a faces et sommets.

Le



Il a faces et sommets.