

Jeudi 02 avril et Vendredi 03 avril 2020

Révisions – Mathématiques

Dans ton cahier écris le titre suivant : Mathématiques et note seulement les numéros d'exercices (ne recopie pas les consignes)

Calcul mental

1/ Compte de 2 en 2 entre 20 et 40.

2/ Compte de 5 en 5 entre 0 et 50.

3/ Donne la suite des nombres décroissants (les 5 nombres précédents à partir de)

Exemple : 19 → 18 - 17 - 16 - 15 - 14

29 →

35 →


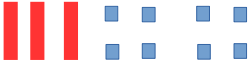
76 →

83 →

94 →


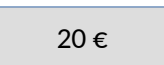



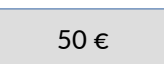
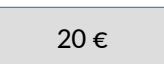




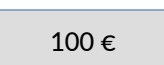



Nombres et calcul

4/ Recopie et complète le tableau comme l'exemple

Ex: 24		2d et 4 u	$20 + 4$	$10+10+4$
		5d et 6u		
				
			$70+5$	
				$10+10+10+10+9$
87				

Grandeurs et mesures

5/ Calcul la somme représentée par les les pièces et billets :

5/ Dessine les pièces et billets à côté de la somme indiquée :

24 €	
69 €	
198 €	

6/ Effectue les mesures chez toi à l'aide d'une règle :

Largeur d'un grand cahier (petit côté)	
Longueur d'un grand cahier (grand côté)	
Longueur de ton stylo	

Géométrie (au crayon à papier)

5/ Trace sur ton cahier un carré de 4 carreaux de côté (Rappel Les 4 côtés d'un carré sont égaux.

6/ Trace sur ton cahier un rectangle de largeur 3 carreaux et de longueur 5 carreaux