

Mathématiques - problèmes



PROBLÈMES CE1 (1)

21

Mamie prépare deux tartes aux pommes pour la fête. Elle a acheté 9 pommes, mais elle pense que ce n'est pas assez. Elle va en cueillir 7 de plus dans le verger.

Combien de pommes aura-t-elle au total ?

Mathématiques - problèmes

Pour résoudre ce problème, tu dois d'abord bien lire l'énoncé pour comprendre l'histoire qui est racontée.

Ensuite, tu dois trouver dans quelle catégorie il se trouve (A,B,C,D,E, ou F). Regarde les différentes catégories dans la page suivante.

Puis tu fais un schéma pour représenter ce qui est dit dans le problème en t'aidant de la catégorie que tu as choisi.


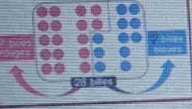


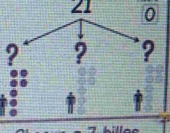
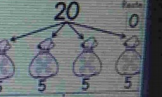
Tu écris le calcul correspondant à ton schéma.

Et enfin tu écris la phrase réponse.

Pour t'aider à faire une belle présentation dans ton cahier, regarde la dernière la photo de la dernière page.

Mathématiques - problèmes

Je cherche...

combien il reste	une partie d'une collection	combien ça fait en tout	combien ça fait en tout	combien ça fait pour chacun	combien ça fait de groupes
		collections différentes	collections répétées	PARTAGE	GROUPEMENT
$25 - 12 = ?$ 	$28 - 17 = ?$ 	$13 + 12 = ?$ 	$5 + 5 + 5 + 5 = ?$ ou $5 \times 4 = ?$ 	21 	20 
Il reste 13 billes.	Il y a 11 billes bleues.	Il y a 25 billes.	Il y a 20 billes.	Chacun a 7 billes.	On peut faire 4 sacs.
→ SOUSTRACTION	→ SOUSTRACTION	→ ADDITION	→ MULTIPLICATION	→ DIVISION	→ DIVISION
A	B	C	D	E	F

100 105 110 115 120 125 130 135 140 145 150 155 160 165 170 175 180 185 190 195 200 205 210 215 220 225 230 235 240 245 250 255 260 265 270 275 280 285 290 295 300 305 310 315 320 325 330 335 340 345 350 355 360 365 370 375 380 385 390 395 400 405 410 415 420 425 430 435 440 445 450 455 460 465 470 475 480 485 490 495 500 505 510 515 520 525 530 535 540 545

Mathématiques - problèmes

Exemple de
présentation
dans le cahier

Problème

Catégorie : A

Schéma (ou dessin) du problème :

o o o o o o o o o o
o o o o o ø ø ø ø ø

Calcul : $20 - 5 = 15$

Phrase réponse : Il reste 15 billes à Lucas.