

Semaine du lundi 06 avril au vendredi 10 avril 2020

Révisions – Mathématiques

Dans ton cahier écris le titre suivant : Mathématiques et note seulement les numéros d'exercices (ne recopie pas les consignes)

Calcul mental

1/ Compte de 2 en 2 entre 50 et 70.

2/ Compte de 5 en 5 entre 50 et 100.

3/ A l'oral donne les nombres pairs dans la liste suivante :

20-21-22-23-24-25-26-27-28-29-30

4/ Donne la suite des nombres décroissants (les 5 nombres précédents à partir de)

Exemple : 19 → 18 - 17 - 16 - 15 - 14

47 →

58 →



73 →

91 →

127 →




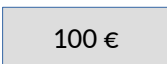


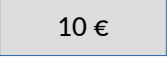


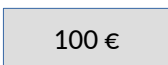
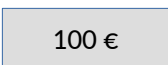



Nombres et calcul

4/ Recopie et complète le tableau comme l'exemple

Ex: 124		1c 2d et 4 u	$100+20+4$	$100+10+10+4$
		9d et 8u		
				
			$300+70+5$	
				$100+100+10+10+10+10+9$
184				

Grandeurs et mesures

5/ Calcul la somme représentée par les les pièces et billets :

5/ Dessine les pièces et billets à côté de la somme indiquée :

234 €	
179 €	
495 €	

6/ Effectue les mesures chez toi à l'aide d'une règle :

Longueur d'une fourchette	
Longueur d'une petite cuillère	
Largeur de la table	

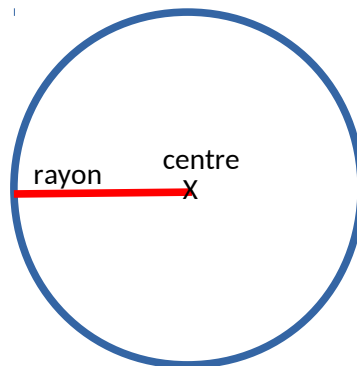
(à faire avec un adulte pour vérifier. Attention à l'unité.)

Géométrie (au crayon à papier)

5/ Trace sur ton cahier un carré ABCD de 6 carreaux de côté (Rappel Les 4 côtés d'un carré sont égaux).

6/ Trace sur ton cahier un rectangle EFGH de largeur 5 carreaux et de longueur 8 carreaux.

7/ Rappel sur le cercle



8/ Trace un cercle de 4 cm de rayon