

Nom _____

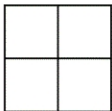
Date _____



$\frac{1}{4}$

FRACTIONS

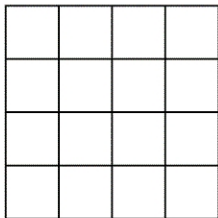
Colorie le quart de chaque figure.




Le quart de 4 est ____



Le quart de 12 est ____



Le quart de 16 est ____



Le quart de 8 est ____

Petit rappel :

Quand on partage une figure pour obtenir des quarts, on partage la figure en quatre parties égales.