



Numération

1 Dictée de nombres. Les nombres de 0 à 99.

--	--	--	--	--	--	--	--	--	--	--


2 Compte de 1 en 1 et complète les cases.



				45						
		52								
			64							

3 Ecris ces nombres en chiffres.

dix	
soixante	
trente	
cinquante	



soixante-dix	
quatre-vingt-dix	
quarante	
quatre-vingts	

4 Combien y-a-t-il de photos ?



Réponse :

--	--	--	--	--	--



Numération

Fiche 2

1 Dictée de nombres. Les nombres de 0 à 99.

--	--	--	--	--	--	--	--	--	--


2 Compte de 1 en 1 et complète les cases.

7	4										
		6	1								
				8	8						


3 Ecris ces nombres en lettres.




--	--	--	--	--	--	--	--	--	--




--	--	--	--	--	--	--	--	--	--




--	--	--	--	--	--	--	--	--	--



--	--	--	--	--	--	--	--	--	--



--	--	--	--	--	--	--	--	--	--



--	--	--	--	--	--	--	--	--	--

4 Range les nombres dans l'ordre croissant.


25 - 76 - 86 - 68 - 61 - 91






Numération


1 Ecris ces nombres en lettres.




--	--	--	--	--	--	--	--	--	--



--	--	--	--	--	--	--	--	--	--




--	--	--	--	--	--	--	--	--	--



--	--	--	--	--	--	--	--	--	--

2 Compte de 10 en 10 et complète les cases.



0	10	20							
---	----	----	--	--	--	--	--	--	--

	21	31	41				
--	----	----	----	--	--	--	--

			34	44	54				
--	--	--	----	----	----	--	--	--	--

3 Ecris ces nombres en chiffres.

cinquante-neuf

--	--

quarante-sept

--	--

soixante-et-onze

--	--

quatre-vingt-trois

--	--

soixante-neuf

--	--

quatre-vingt-douze

--	--

4 Range les nombres dans l'ordre décroissant.

55 - 31 - 5 - 46 - 80 - 26



--

--

--

--

--


--






Numération

1 Ecris ces nombres en lettres.




--	--	--	--	--	--	--	--	--	--	--	--	--	--	--	--



--	--	--	--	--	--	--	--	--	--	--	--	--	--	--	--



--	--	--	--	--	--	--	--	--	--	--	--	--	--	--	--



--	--	--	--	--	--	--	--	--	--	--	--	--	--	--	--

2 Compte de 10 en 10 et complète les cases.

42	44														
----	----	--	--	--	--	--	--	--	--	--	--	--	--	--	--

55															
----	--	--	--	--	--	--	--	--	--	--	--	--	--	--	--

			74												
--	--	--	----	--	--	--	--	--	--	--	--	--	--	--	--

3 Ecris ces nombres en chiffres.

vingt-neuf

--	--

trente-six

--	--

soixante-douze

--	--

quarante-et-un

--	--

soixante-dix

--	--

quatre-vingt-quinze

--	--

4 Complète la suite des nombres.

57		59		
----	--	----	--	--

34			37	
----	--	--	----	--

93	92			
----	----	--	--	--

55	54			
----	----	--	--	--