

Evaluation grandeur et mesure espace et géométrie ce1

1Je sais lire l'heure.

2Je sais coder ou décoder l'emplacement d'une case ou d'un quadrillage.

3Je sais coder et décoder des déplacements sur quadrillage.

4Je sais me familiariser avec les centimes d'euros et je connais la relation $1\text{ euro}=100\text{centimes}$.

3

• C'est le **matin**. Écris l'heure.



..... h



..... h



..... h

• Dessine les aiguilles.



8 h 30



10 h 30



3 h et demie

4

• C'est l'**après-midi**. Écris l'heure.



..... h



..... h

• Dessine les aiguilles.



16 h 00




20 h 30

2 La bataille navale

- Dans quelles cases se trouve le bateau bleu  de Karim ?

B3	<input type="text"/>	<input type="text"/>
<input type="text"/>	<input type="text"/>	<input type="text"/>

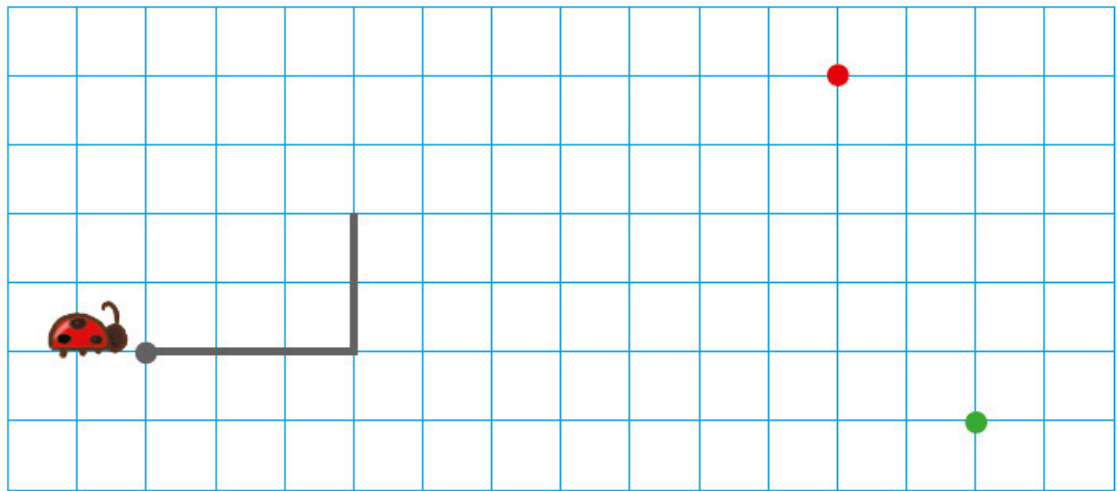

	A	B	C	D	E	F	G	H
1								
2								
3								
4								
5								
6								
7								

- Dessine le bateau rouge  de Noémie.

H4	H5	H6
H7	G6	

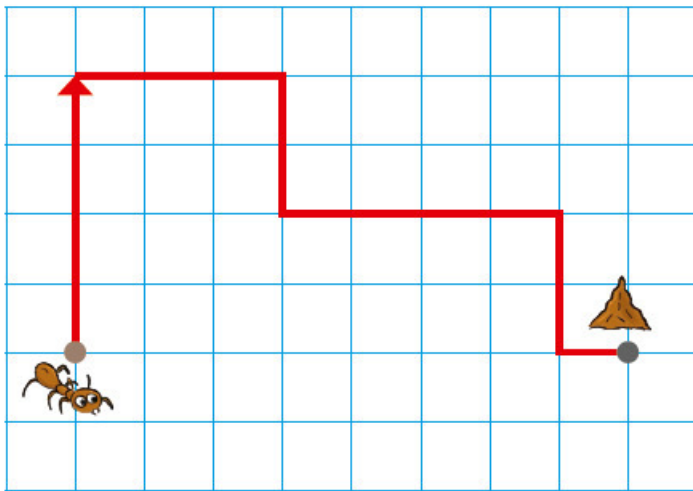


1 Continue de tracer le chemin suivi par la coccinelle.



Coche le point d'arrivée :

2 Observe le trajet rouge de la fourmi.



Code ce trajet pour arriver au point ●.

--	--	--	--	--	--



2 Combien d'euros ?



Coche :

1 €

2 €

3 Écris le prix de chaque figurine.



..... € et centimes

..... €

4 **Problème** À la boulangerie, Cécile achète

une brioche 3 € 20 c,

un pain 1 € 35 c

et un gâteau 2 € 10 c.

Combien va-t-elle payer ?

Elle va payer

3 € 20 c

+ 1 € 35 c

+ 2 € 10 c

. € . . c

