

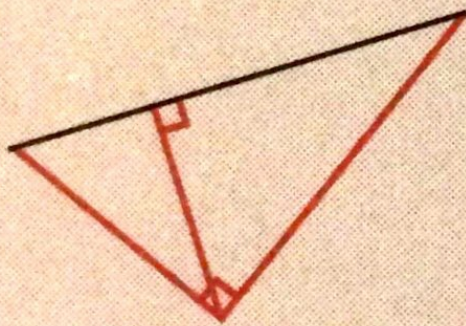
- 1** A : il y a 6 triangles ;
B : il y a 10 triangles.

Vérifie que les figures que tu as coloriées ont trois côtés.


2

	a	b	c	d	e	f	g	h	i
Triangle quelconque		×				×			×
Triangle isocèle			×	×			×		
Triangle équilatéral					×			×	
Triangle rectangle	×			×			×		

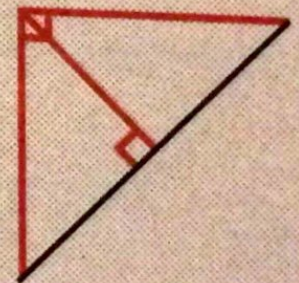
3



a



c



d

4

Triangles **isocèles rectangles** : C et E.

5

Intrus : **C** (il n'est pas isocèle).