

## Correction du contrat pour la semaine 3 (du 6 au 10 avril 2020)

**\*Lecture :** Fichier « À coup sûr » « Le son /gn/ »

→ **exercice 4 p. 39** Complète les phrases avec les mots de la liste

Je me coiffe avec un peigne.

La chèvre est perdue dans la montagne.

Il bêle ; il tète sa mère. C'est l'agneau.

Thomas s'est coupé. Sa maman le soigne.

Dans la forêt, on trouve des champignons et des châtaignes.

Elle tisse sa toile... C'est l'araignée.

→ **exercice 13 p. 43** Classe les mots de la liste dans le tableau

Un, une	Les, des
chignon	crabes
chien	nuages
tablier	peignes
panier	baleines
	avions
	plumes

→ **exercice 14 p. 43** Attache les mots de chaque colonne pour former des phrases

Maman prépare une omelette.

Le cheval galope dans la prairie.

L'agneau tète la brebis.

Les pommes sont dans le panier.

→ **exercice 15 p. 43** Sépare les mots par un trait et écris les phrases

Lina ramasse les champignons dans la forêt.

Pidonie cherche son peigne pour se coiffer.

Avant l'hiver le troupeau redescend de la montagne.

→ **exercice 16 p. 44** Il manque une lettre dans chaque mot. Écris le mot corrigé

un peigne - la montagne - une brioche

la baaignoire - un champignon - une châtaigne

un pompier - une autruche - un chignon

## Etude de la langue :

Numérote les mots dans l'ordre de l'alphabet.



	Oeufs
	Chasse
	Trésor
	Lapin

	Chocolat
	Cloche
	Chasse
	Corbeille



	Chenille
	Papillon
	Cocon
	Printemps

Ecole de Crevecoeur

3 Oeufs

1 Chasse

4 Trésor

2 Lapin

2 Chocolat

3 Cloche

1 Chasse

4 Corbeille

1 Chenille

3 Papillon

2 Cocon

4 Printemps

## Problème :

2 La poule grise pond 5 œufs et la poule blanche pond 8 œufs.  
Combien d'œufs y a-t-il dans le poulailler ?



Ta phrase réponse

Il y a  œufs dans le poulailler.

$$5 + 8 = 13$$

Il y a 13 œufs dans le poulailler.

## Problème :




Combien de crayons de couleurs me manque-t-il ?

Dans la pochette, il y avait 18 crayons de couleurs. Sur la table, il en reste 10.

$$10 + 8 = 18 \text{ ou } 18 - 10 = 8$$

Il me manque 8 crayons de couleurs.

Compte les œufs ramassés par les lapins.  
Chaque lapin a 10 œufs dans sa brouette.



Il y a ..... lapins avec 10 œufs dans la brouette.  
Il y a ..... œufs seuls.  
En tout, il y a ..... œufs.

Ecole de Crevette

Il y a 14 lapins avec 10 œufs dans la brouette.

$$10 + 10 + 10 + 10 + 10 + 10 + 10 + 10 + 10 + 10 + 10 + 10 + 10 + 10 = 140$$

Il y a 4 œufs seuls

$$140 + 4 = 144$$

En tout, il y a 144 œufs.

## Problème :

45 Tirobot achète 3 boîtes d'œufs pour faire des gâteaux.  
Il y a 6 œufs dans chaque boîte.

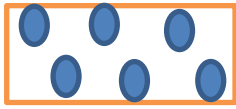
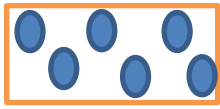
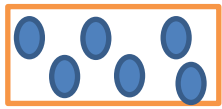
Combien d'œufs Tirobot achète-t-il en tout ?

Schéma

Operation(s)

Calcul(s)

Phrase réponse



6

+

6

+

6

= 18

ou 3 x 6

= 18

Tirobot achète 18 œufs.

## Problèmes :



82

Ce matin, Tirrobot compte les 85 poules de la ferme. Il y a 24 poules dans le poulailler, les autres sortent dehors. **Combien y a-t-il de poules dehors ?**



Schéma

Calcul(s)

Phrase réponse



83

À la ferme, Robotine voit 56 lapins, 32 poules et 28 canards. **Combien d'animaux Robotine voit-elle à la ferme ?**

Schéma

Calcul(s)

Phrase réponse



$85 - 24 = 61$

Il y a 61 poules dehors.

$56 + 32 + 28 = 116$

Il y a 116 animaux à la ferme.