


Compétence : Associer un tableau rectangulaire à un produit.

Correction du lundi 25 mai

Prénom

Date

1 Relie les étiquettes aux boîtes de chocolats.
Complète les égalités.

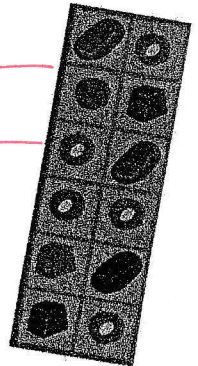


5×3

6×2

2×6

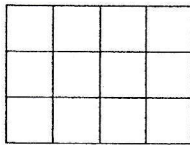
3×5



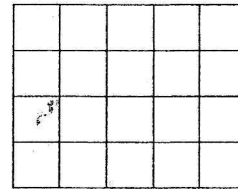
$5 \times 3 = 3 \times 5 = 15$

$6 \times 2 = 2 \times 6 = 12$

2 Complète les égalités.




$4 \times 3 = 3 \times 4 = 12$




$5 \times 4 = 4 \times 5 = 20$

3 Écris le nombre de fenêtres de chaque immeuble.



$4 \times 5 = 5 \times 4 = 20$



$3 \times 10 = 10 \times 3 = 30$