
 Calcul mental : Les tables d'addition et de soustraction de 1 et de 2.

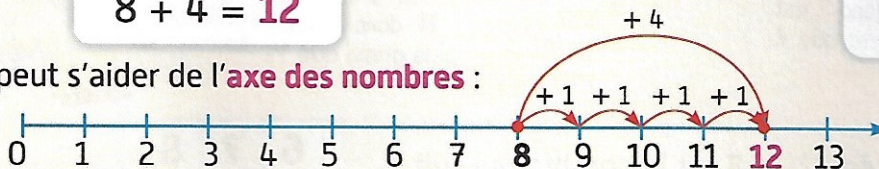

Je comprends

Julian a 8 billes. Il gagne 4 billes à la récréation.

Tigrou aide Julian à calculer le nombre de billes qu'il a maintenant.

Une addition permet de savoir combien de billes a Julian :

$$8 + 4 = 12$$

 On peut s'aider de l'**axe des nombres** :


 Je pars de 8 et j'avance de 4 sauts vers la droite. J'arrive sur 12.


Maintenant, Julian a 12 billes.

J'applique
1 Dessine les opérations sur l'axe des nombres, puis **écris** leur résultat.

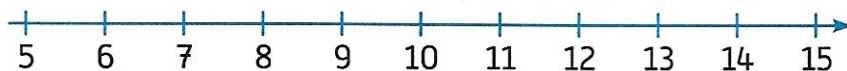
$6 + 4 = \underline{\quad}$



$8 + 5 = \underline{\quad}$



$9 + 2 = \underline{\quad}$


2 Calcule.

$7 + 3 = \underline{\quad}$

$6 + 4 = \underline{\quad}$

$2 + 8 = \underline{\quad}$

$7 + 2 = \underline{\quad}$

$6 + 5 = \underline{\quad}$

$2 + 9 = \underline{\quad}$

$7 + 4 = \underline{\quad}$

$6 + 3 = \underline{\quad}$

$2 + 7 = \underline{\quad}$

Tu peux dessiner au brouillon.


3 Calcule.

$10 + 3 = \underline{\quad}$

$9 + 3 = \underline{\quad}$

$11 + 3 = \underline{\quad}$

4 Entoure la bonne réponse.

 $9 + 3$ est le nombre qui suit précède $10 + 3$.

 $11 + 3$ est le nombre qui suit précède $10 + 3$.