



## Sens des opérations

Représenter une situation.  
Identifier l'opération.

## Problèmes

Fiche n°

# 1

lundi mardi mercredi jeudi vendredi samedi dimanche



/ /

### 1



J'entoure dans le texte ce que je vais dessiner, je complète le dessin, puis je réponds.



Dans ma boîte, il y a **6 œufs**. Louane prend 4 œufs pour faire un gâteau.

♥ Combien restera-t-il d'œufs ?



\* Il y aura \_\_\_\_ œufs.

### 2



Dans ce pommier, il y a **8 pommes**, Bilal prend 3 pommes pour faire une tarte.

♥ Combien restera-t-il de pommes dans l'arbre ?



\* Il restera \_\_\_\_ pommes.

### 3



Dans ce sapin, il y a **6 boules**, Ethan a encore 4 boules à mettre.

♥ Combien y aura-t-il de boules dans le sapin ?



\* Il y aura \_\_\_\_ boules.



# Sens des opérations

Représenter une situation.  
Identifier l'opération.

## Problèmes

Fiche n°

# 2

lundi mardi mercredi jeudi vendredi samedi dimanche


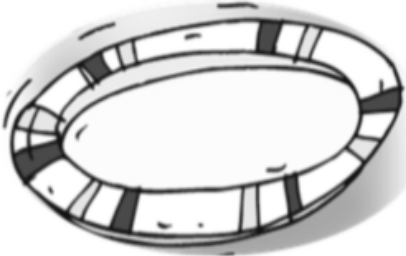


/ /

### 1



J'entoure dans le texte ce que je vais dessiner, je complète le dessin, puis je réponds.



Dans une assiette, il y a **3 pommes**, dans l'autre il y a 4 poires.

♥ **Combien de fruits y a-t-il en tout ?**



♣ Il y a \_\_\_\_ fruits .

### 2



Mathys a **3 chats**, 2 chiens et 3 hamsters.

♥ **Combien d'animaux a-t-il en tout ?**



♣ Il a \_\_\_\_ animaux

### 3



Dans la tirelire il y avait **6 €**. Lily a perdu une dent et la petite souris lui a déposé 4€ sous l'oreiller.

♥ **Combien d'argent a-t-il maintenant?**



♣ Lily a \_\_\_\_ €.



## Sens des opérations

Représenter une situation.  
Identifier l'opération.

Problèmes

Fiche n°

3

lundi mardi mercredi jeudi vendredi samedi dimanche




/ /

1



J'entoure dans le texte ce que je vais dessiner, je complète le dessin, puis je réponds.




8 oiseaux se sont posés dans l'arbre.  
5 oiseaux vont s'envoler.

♥ Combien en restera-t-il dans l'arbre ?

◆

♣ Il restera \_\_\_\_ oiseaux.

2




Lylou a allumé 10 bougies pour son anniversaire, elle souffle mais n'éteint que 7 bougies.

♥ Combien de bougies restent allumées ?

◆

♣ Il reste \_\_\_\_ bougies allumées.

3



Dans la tirelire il y avait 9 €. Jules a pris 3€ pour s'acheter un livre.

♥ Combien reste-t-il dans la tirelire ?

◆

♣ Il reste \_\_\_\_ €.



lundi mardi mercredi jeudi vendredi samedi dimanche




/

/

1



*J'entoure dans le texte ce que je vais dessiner, je complète le dessin, puis je réponds.*



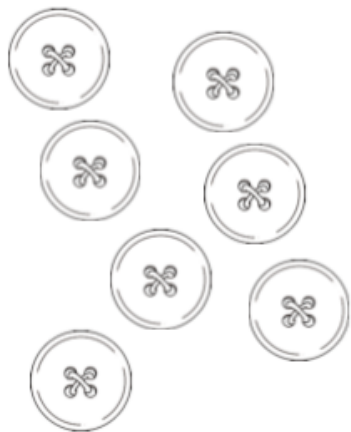
**9 canards** se promènent dans la mare, mais 3 canards s'envolent.

♥ **Combien en reste-t-il sur l'eau ?**

♦

♣ *Il y a \_\_\_\_\_ canards sur l'eau.*

2



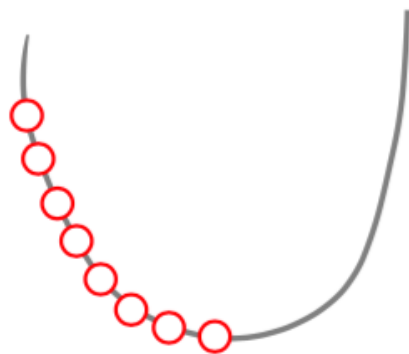
Léa a **7 boutons** à son manteau, elle en perd 2 .

♥ **Combien lui en reste-t-il ?**

♦

♣ *Il lui reste \_\_\_\_\_ boutons.*

3



Inès fait un collier de perles, elle a mis **8 perles rouges** , puis elle ajoute 7 perles bleues .

♥ **Combien y a-t-il de perles dans le collier ?**

♦

♣ *Il y a \_\_\_\_\_ perles.*



# Sens des opérations

Représenter une situation.  
Identifier l'opération.

Problèmes

Fiche n°

5

lundi mardi mercredi jeudi vendredi samedi dimanche




/

/

1



J'entoure dans le texte ce que je vais dessiner, je complète le dessin, puis je réponds.



Léo a **9 billes**, il en gagne 4 à la récréation.

♥ **Combien a-t-il de billes maintenant ?**

◆

\* Léo a        billes.

2




Adèle a **10 bonbons** elle en donne 4 à ses amies.

♥ **Combien lui en reste-t-il ?**

◆

\* Il lui reste        bonbons

3



Lucia a **12 crayons** dans sa trousse, 5 crayons sont rouges  
Les autres sont bleus.

♥ **Combien a-t-elle de crayons bleus ?**

◆

\* Lucia a        crayons bleus.



lundi mardi mercredi jeudi vendredi samedi dimanche



/ /

**1**

netit



hand

*J'entoure dans le texte ce que je vais dessiner, je complète le dessin, puis je réponds.*

Kylian a 12 cartes , il en donne 4 à son ami.

**♥ Combien a-t-il de cartes maintenant ?**

◆

\* Il a \_\_\_\_ cartes

**2**

Yanis a 8 cerises, il en mange 3 .

**♥ Combien lui en reste-t-il ?**

◆

\* Il lui reste \_\_\_\_ cerises

**3**Timéo a dans sa trousse  
4 crayons verts, 3 crayons rouges  
et 6 crayons jaunes.**♥ Combien a-t-il de crayons ?**

◆

\* Il a \_\_\_\_ crayons



## Sens des opérations

Représenter une situation.

Identifier l'opération.

Problèmes

Fiche n°

7

lundi mardi mercredi jeudi vendredi samedi dimanche



/ /

1



J'entoure dans le texte ce que je vais dessiner, je complète le dessin, puis je réponds.

Loane a 13 photos, elle en donne 4 à Léna.

♥ **Combien a-t-elle de photos maintenant ?**

◆

\* *Loane a \_\_\_ photos*

2

Maman a 8 roses dans son vase, papa lui apporte un bouquet de 7 roses .

♥ **Combien de roses va-t-elle avoir maintenant ?**

◆

\* *Elle a maintenant \_\_\_ roses*

3

10 enfants vont se promener dans le parc, il y a 4 garçons.

♥ **Combien y a-t-il de filles ?**

◆

\* *Il y a \_\_\_ filles*