



S'exercer

1 Mesure les longueurs des côtés de ce carré et de ce rectangle, puis **calcule** leur aire en cm^2 .

a




b



2 Calcule l'aire de ces figures. Les longueurs des côtés sont données.

a



5 cm




6 cm

b



12 m



21,5 m