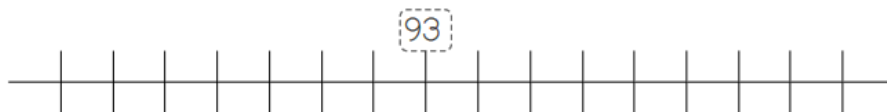
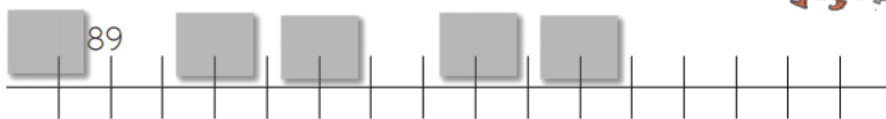


Fiche 1 – Nombres de 0 à 99

1 Place les nombres suivants sur la ligne graduée : 92 - 86 - 98 - 96 - 95



2 Complète uniquement les cases grises.



3 Écris ces nombres en lettres.



93 : _____ 97 : _____
 92 : _____ 99 : _____
 90 : _____ 79 : _____
 84 : _____ 77 : _____

4 Écris ces nombres en chiffres.

quatre-vingt-onze : _____

quatre-vingt-dix-huit : _____

quatre-vingt-un : _____

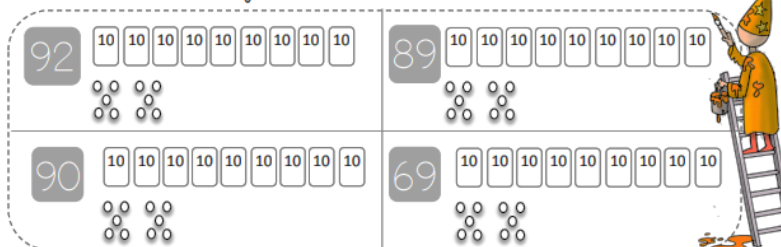
quatre-vingt-quinze : _____

quatre-vingt-sept : _____

quatre-vingt-dix : _____

Boutdegommes

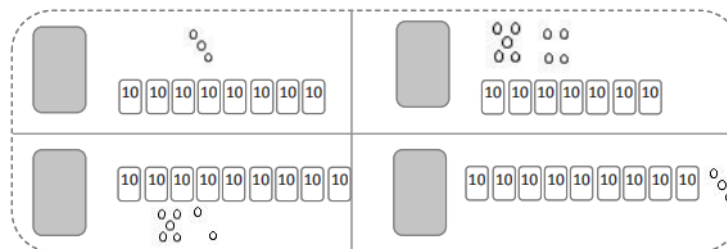
1 Colorie le bon nombre de dizaines et le bon nombre d'unités.



2 Dessine le bon nombre de dizaines et d'unités.



3 Compte les dizaines et les unités.



4 Décompose ces nombres en dizaines et unités.

	9 dizaines 3 unités	89	
94			9 dizaines
	8 dizaines 8 unités	93	