

Vendredi 17 avril 2020

FRANÇAIS

Dictée : Au zoo (2) Nous regardons la girafe et son petit. Beaucoup d'enfants sont devant l'enclos des singes. Au loin, nous voyons la lionne et ses lionceaux qui se couchent à l'ombre des arbres.

Conjugaison : Conjugué le verbe entre parenthèses au futur.

J' (avoir) un sac bleu.

Nous (avoir) des chaussures vertes.

Ils n' (avoir) pas de chapeau.

Tu (être) dans la classe.

Vous (être) assis devant.

Elle (être) tout au fond de la classe. Écris

Grammaire : exercices sur le groupe nominal, les déterminants, le nom et l'adjectif

1) Écris 5 groupes nominaux avec ces mots. (attention aux accords féminin, pluriel...)

un – perruches – des – cassé – pneus – pondeuses – bruit – leurs – l' – chantantes – ces – poules – bizarre – crevés – ongle

2) Recopie les groupes nominaux de chaque phrase et souligne le nom.

Ce gros livre appartient à ma mère.


Sur mon armoire, il y a une énorme boîte.

Je cherche une activité amusante à faire avec mes petits cousins.

Dans mon cahier bleu, j'ai copié des leçons.

Production d'écrits – Ecris une ou deux phrases pour décrire chaque image.

Lexique (pour les élèves qui en ont besoin) : une grenouille – un maillot de bain – une échelle – un plongeoir – une piscine – monter – grimper – plonger – se baigner – verte – rouge – heureuse – joyeuse – froide...



MATHEMATIQUES

Calculs posés : Pose et effectue ces additions et ces soustractions.

$45 + 89$	$76 - 54$	$654 + 56$	$432 - 238$	$54 + 78$
$65 - 52$	$543 + 367$	$876 - 451$	$631 + 443$	$887 - 549$

Résolution de problème : (les élèves qui ne rencontrent pas de difficultés pour le problème 1 font aussi le problème 2).

Problème 1 : Hervé a acheté des billes pour ses enfants. Il a acheté 48 billes au total. Il en donne 25 à son fils. **Combien de billes aura sa fille ?**

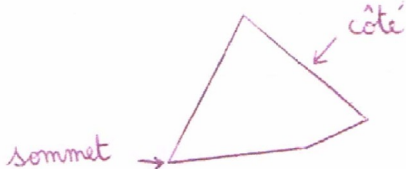
Problème 2 : Au zoo, il y a 38 ouistitis, 26 orang-outans, 5 gorilles et 11 chimpanzés. **Combien de singes y a-t-il dans ce zoo ?**

Parmi eux, 38 sont des mâles. **Combien de singes sont des femelles ?**

Leçon à copier dans le grand cahier bleu.

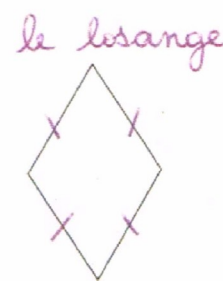

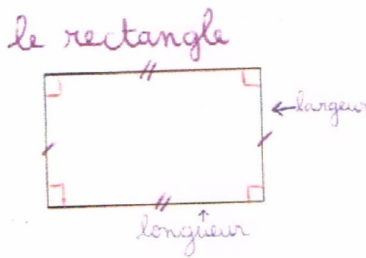
Les quadrilatères

Un quadrilatère est une figure qui a quatre côtés et quatre sommets.



Parmi les quadrilatères, il y a :

- **le carré** : il a 4 angles droits et 4 côtés de même longueur.
- **le rectangle** : il a 4 angles droits et ses côtés opposés sont de même longueur. Le grand côté s'appelle la longueur et le petit côté s'appelle la largeur.
- **le losange** : il a 4 côtés de même longueur.



Enseignement moral et civique : Être un citoyen (vidéo à regarder)

<https://www.lumni.fr/video/c-est-quoi-un-citoyen-1-jour-1-question#containerType=folder&containerSlug=les-valeurs-de-la-republique>

Correction du vendredi 17 avril 2020

1) Écris 5 groupes nominaux avec ces mots.

un bruit bizarre – ces perruches chantantes – des pneus crevés– leurs poules pondeuses
– l’ongle cassé

2) Recopie les groupes nominaux de chaque phrase et souligne le nom.

Ce gros livre / ma mère

mon armoire / une énorme boite

une activité amusante / mes petits cousins

mon cahier bleu / des leçons

Problème 1 : $48 - 25 = 23$. Sa fille aura 23 billes.

Problème 2 : $38 + 26 + 5 + 11 = 80$. Il y a 80 singes dans ce zoo.
 $80 - 38 = 42$. 42 singes sont des femelles.