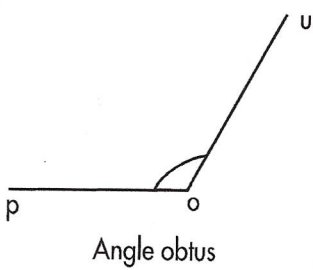
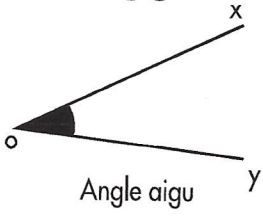
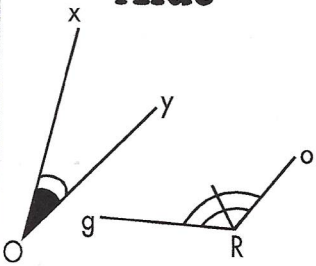


Angles

Rappel



Aide

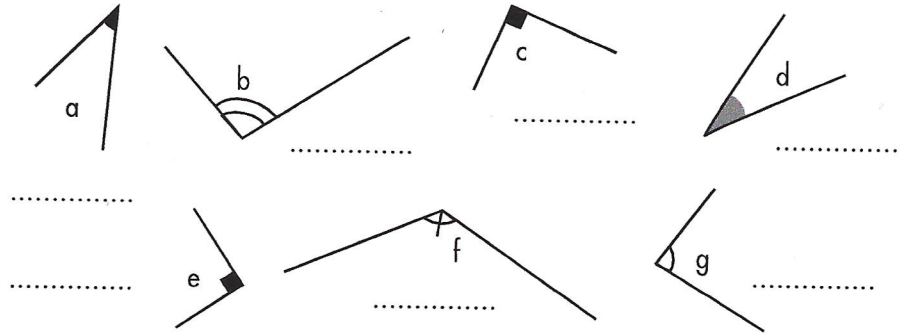


$\widehat{xOy} < \widehat{gRo}$

Exercice 1

Sous chaque angle, écris :
aigu - droit - obtus

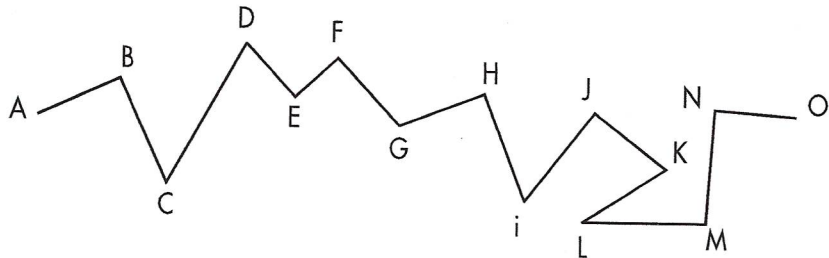
score
7



Exercice 2

Marque d'un carré rouge tous les angles droits
que tu vas rencontrer en allant de A à O

score
6



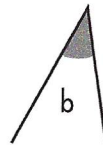
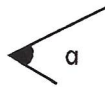
Exercice 3

Lequel des ces 3 angles...

score
4

...a la plus petite mesure ?

...a la plus grande mesure ?

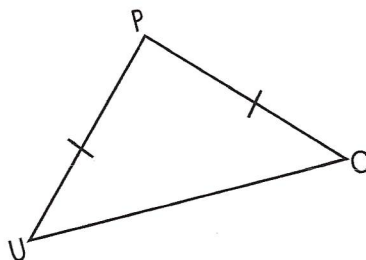


Exercice 4

Vrai - Faux

Observe ce triangle et barre ce qui te semble faux

score
3



- a) \widehat{P} est un angle obtus.
- b) \widehat{O} est un angle aigu.
- c) \widehat{O} est égal à \widehat{P} .
- d) \widehat{P} est un angle droit.
- e) \widehat{U} et \widehat{O} ont même mesure.