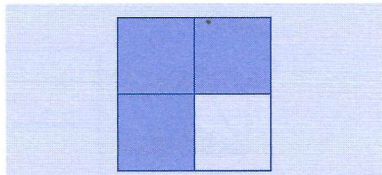
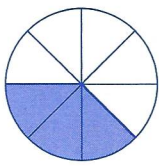


1 Complète, comme dans l'exemple.



3 parties grisées sur 4


$\frac{3}{4}$



..... parties grisées sur

.....

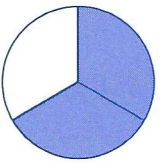
.....



..... parties grisées sur

.....

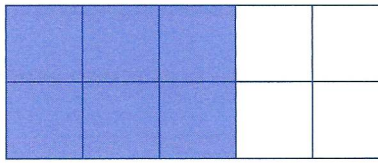
.....



..... parties grisées sur

.....


.....



..... parties grisées sur

.....


.....



..... parties grisées sur

.....

.....



..... parties grisées sur

.....


.....



..... parties grisées sur

.....

.....



..... parties grisées sur

.....

.....

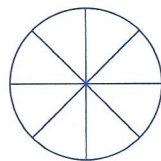
2 Sur chaque dessin, colorie les parties qui correspondent à la phrase, puis complète la fraction.



6 parties coloriées sur 8

.....

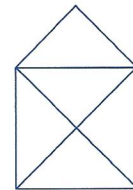
.....



1 partie coloriée sur 8

.....

.....



4 parties coloriées sur 5

.....

.....