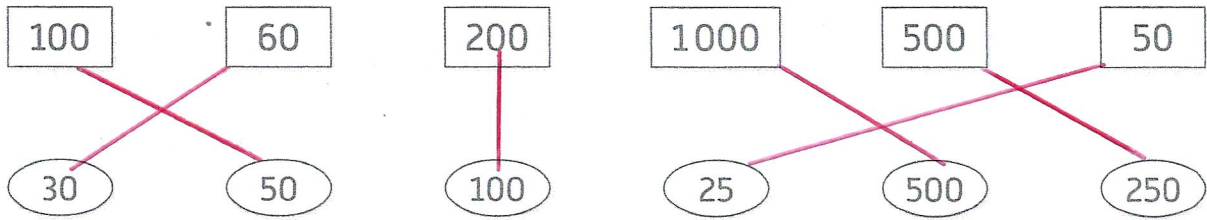
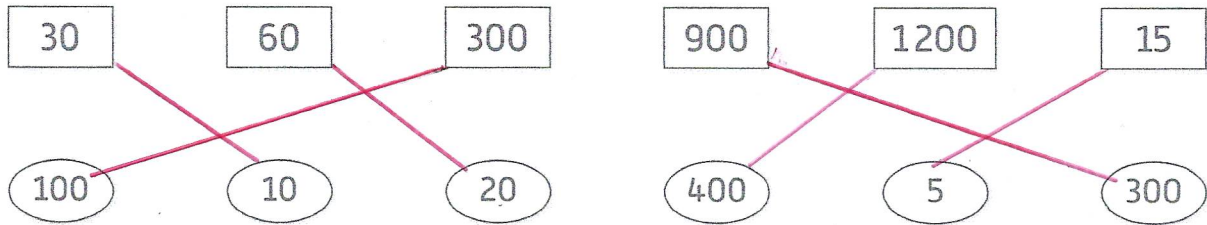


# 55 Demi, tiers et quart

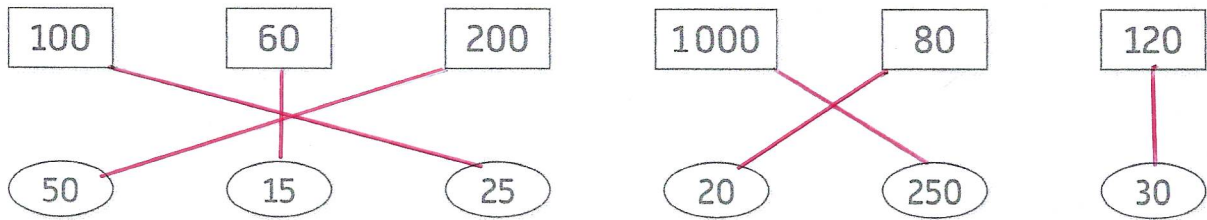
1 Relie chaque quantité à sa moitié. (diviser par 2)



2 Relie chaque quantité à son tiers. (diviser par 3)



3 Relie chaque quantité à son quart. ( $\div 4$ ) C'est la moitié de la moitié!



4 M. Diesel fait le plein à la station-service. Il met 60 litres d'essence dans sa voiture. Après quelques heures de route, il ne lui reste plus qu'un quart de réservoir.


Combien de litres d'essence lui reste-t-il ?

Tu peux t'aider de l'exercice 3.

$$60 \div 4 = 15$$

$$\begin{array}{r} 60 \overline{) 4} \\ \underline{-4} \phantom{0} \\ 20 \\ \underline{-20} \\ 0 \end{array}$$

Il lui reste 15L d'essence.



5 Mme Cordonbleu a 450 g de beurre. Elle en met le tiers dans une poêle.

Quelle quantité de beurre a-t-elle utilisée ?

Quelle quantité de beurre lui reste-t-il ?

$$450 \div 3 = 150$$

Elle a utilisé 150g de beurre.

$$\begin{array}{r} 450 \overline{) 3} \\ \underline{-3} \phantom{0} \\ 15 \\ \underline{-15} \\ 0 \end{array}$$