

## Grandeurs et mesures

MAI 2020	
VEN 1	<b>FETE DU TRAVAIL</b> Jérémie
SAM 2	Boris
DIM 3	Philippe, Jacques
LUN 4	Sylvain
MAR 5	Judith
MER 6	Prudence 19
JEU 7	Gisèle ○
VEN 8	<b>VICTOIRE 1945</b> Désiré
SAM 9	Pacôme
DIM 10	Solange
LUN 11	Estelle
MAR 12	Achille
MER 13	Rolande 20
JEU 14	Matthias ●
VEN 15	Denise
SAM 16	Honoré
DIM 17	Pascal
LUN 18	Éric
MAR 19	Yves
MER 20	Bernardin 21
JEU 21	<b>ASCENSION</b> Constantin
VEN 22	<b>PONT DE L'ASCENSION</b> Emilie ●
SAM 23	Didier
DIM 24	Donatien
LUN 25	Sophie
MAR 26	Béranger
MER 27	Augustin de C. 22
JEU 28	Germain
VEN 29	<b>FETE DES VOISINS</b> Aymar
SAM 30	Ferdinand ●
DIM 31	<b>PENTECOTE</b> Visitation

1- Quel est le mois qui est présenté à gauche ?

.....

2-Combien de jours contient ce mois ?

.....

3-Combien y-a-t-il de semaines complètes ?

(du lundi au dimanche sans coupure)

.....

4-Colorie en jaune une semaine complète .

Entoure en vert tous les dimanches.

5-Quelle est la date de la fête du Travail ?

.....

6-Quelle fête est célébrée le 8 mai ?

.....

7-Quelle est la date de la Sainte -Sophie ?

.....

8-Colorie en rouge la date du 14 mai 2020.

.....

## Les longueurs

### 1-Mesurer

À l'aide de ton double décimètre, mesure les bandes suivantes.

\_\_\_\_\_ cm

\_\_\_\_\_ cm

\_\_\_\_\_ cm

\_\_\_\_\_ cm

\_\_\_\_\_ cm

\_\_\_\_\_ cm

\_\_\_\_\_ cm

\_\_\_\_\_ cm

### 2-Trace sur une feuille les segments suivants.

**A**

-----

**B**

-----

**C**

-----

**D**

-----

**E**

-----

**F**

-----

<b>A</b> 7 cm	<b>C</b> 12 cm	<b>E</b> 16 cm
<b>B</b> 3 cm	<b>D</b> 9 cm	<b>F</b> 14 cm

## Lire l'heure



... h .....

...h.....min



... h .....

...h.....min



... h .....

...h.....min



... h .....

...h.....min



... h .....

...h.....min



... h .....

...h.....min



... h .....

...h.....min



... h .....

...h.....min



... h .....

...h.....min




... h .....

...h.....min

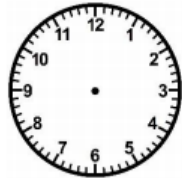
2-Dessine les aiguilles sur les cadrans : en rouge l'heure et en bleu les minutes




5 h 00




7 h 30



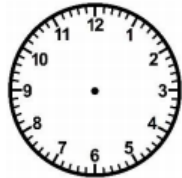
14 h 00



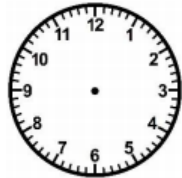
9 h 00



23 h 30



19 h 00



12 h 30

## La monnaie

**1** Relie chaque produit aux pièces nécessaires pour les acheter :



boîte de haricots verts  
55 centimes




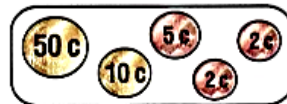
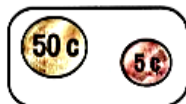
bouteille d'eau  
75 centimes



bouteille de lait  
87 centimes



boîte de thon  
69 centimes




**2** Entoure la somme nécessaire :

baguette : 95 centimes



petits pains grillés : 77 centimes



**3** Complète :



2 € 70 c



€ c



€ c

Ecole de crevette

Géométrie

Colorie tous les hexagones, triangles et rectangle en utilisant le code couleur.

