

Avant de travailler cette fiche, fais d'abord les pages 124 et 125 de ton livre.

1 Place les nombres sur l'axe en les écrivant en chiffres, comme dans l'exemple.

quatre-vingt-un


quatre-vingt-cinq

soixante-dix

soixante-dix-sept

quatre-vingt-douze

quatre-vingt-seize




2 Écris en chiffres les nombres mystères.

● Je suis le nombre qui est entre quatre-vingt-quatorze et quatre-vingt-seize :


● Je suis le nombre qui précède soixante-dix :

● Je suis le nombre qui suit quatre-vingt-neuf :

● Quatre-vingt-treize est entre et .



3 Calcule. Tu peux t'aider de l'axe des nombres.



$$88 - 6 = \square$$

$$73 + 6 = \square$$

$$96 - 4 = \square$$

$$90 + 7 = \square$$

$$72 - 2 = \square$$

$$89 - 8 = \square$$

4 Complète en utilisant **une seule fois** chaque carte-nombre.

$$\square + \square = 78$$

$$\square + \square = 97$$

$$\square + \square = 89$$

$$\square + \square = 85$$

