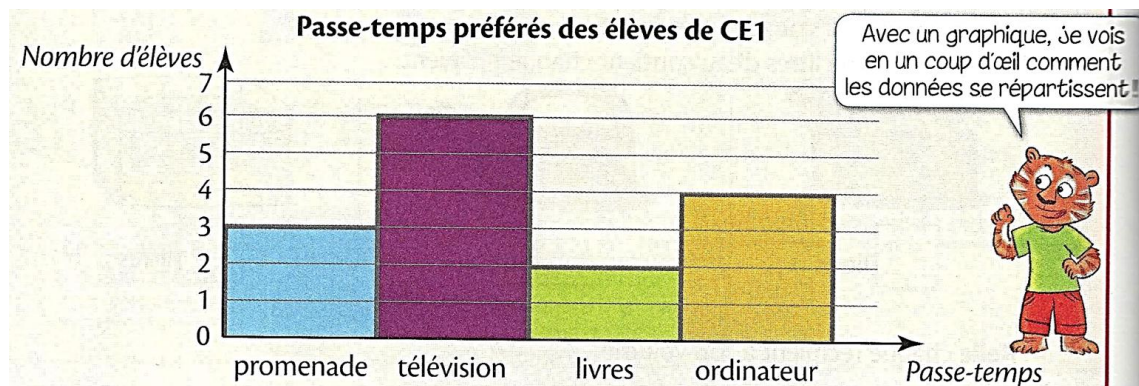


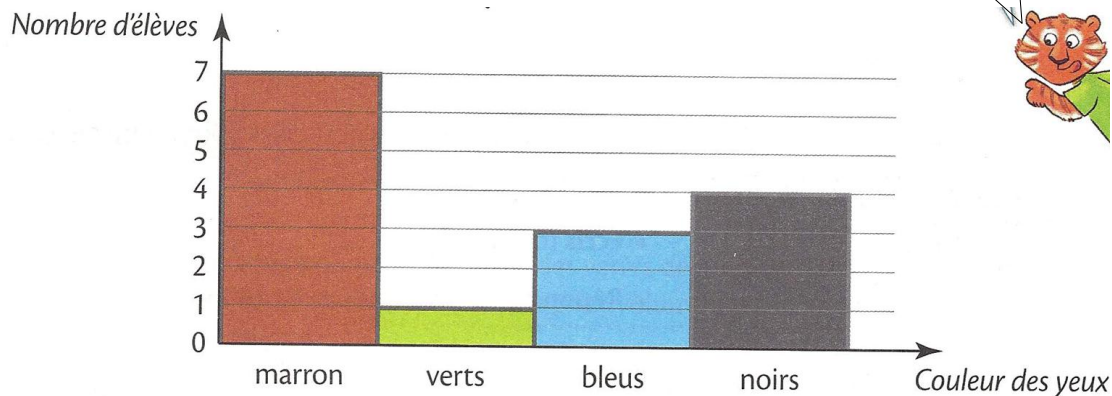
1 Lis le graphique puis **réponds** aux questions :

1. Les élèves de la classe de CE1 ont répondu à un questionnaire : Quel est ton passe-temps favori ?



- A. Combien d'élèves préfèrent lire ? _____
- B. Combien d'élèves préfèrent regarder la télévision ? _____
- C. Combien d'élèves préfèrent se promener ? _____
- D. Combien d'élèves préfèrent utiliser les médias ? _____

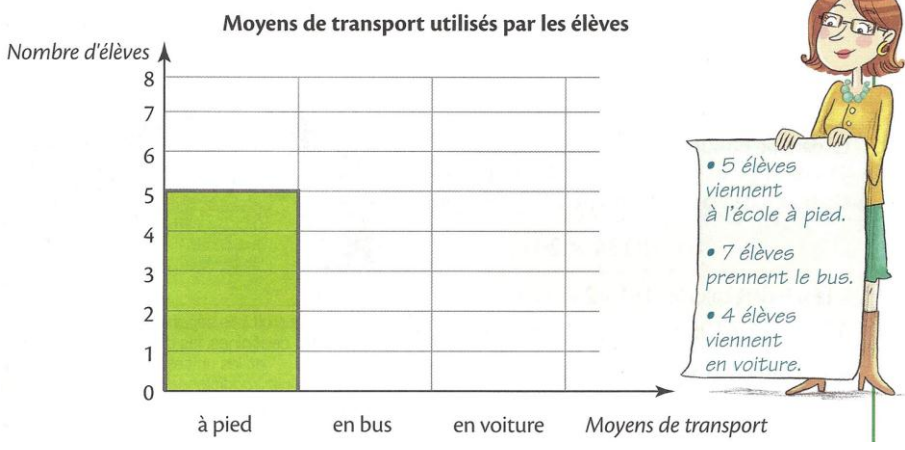
2. Couleurs des yeux des élèves de CE1



- A. Combien d'élèves ont les yeux bleus ? _____
- B. Combien d'élèves ont les yeux noirs ? _____
- C. Combien d'élèves n'ont pas les yeux verts ? _____


2 Complète le graphique puis répons aux questions

1.



Combien d'élèves viennent à l'école avec un véhicule ?

2. Dans la classe de CE1, la maîtresse a demandé à chaque élève quel sport il aimerait faire pendant les vacances. Voici la liste des réponses :



Quel est le sport préféré des élèves ?
