

Prénom : _____

Date : _____

Mesure : La monnaie

1 Relie chaque produit aux pièces nécessaires pour les acheter :



boîte de haricots verts
55 centimes




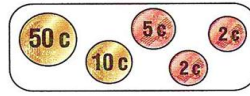
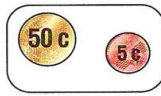
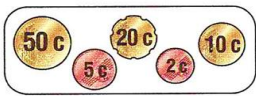
bouteille d'eau
75 centimes



bouteille de lait
87 centimes




boîte de thon
69 centimes





2 Entoure la somme nécessaire :

baguette : 95 centimes



petits pains grillés : 77 centimes



3 Complète :



2 € 70 c



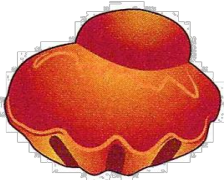
..... € c



..... € c

4 Dessine la somme d'argent nécessaire avec le moins de pièces possible :

brioche : 85 centimes



croissant : 93 centimes

