



# Énigmes

lundi

mardi

mercredi

jeudi

vendredi


samedi

dimanche

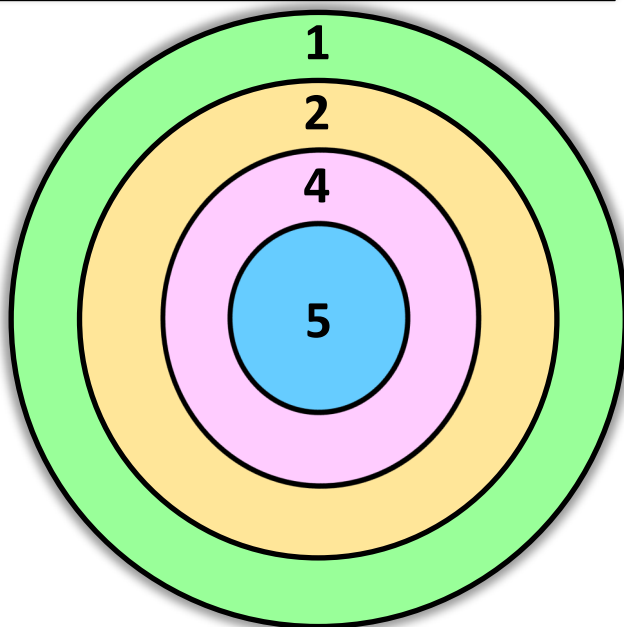



/

/



Aldo a lancé 4 fléchettes et a obtenu 16 points.  
Dessine les fléchettes à la bonne place dans la cible.



Énigmes fiche 1 A CP

l'potâme.



# Énigmes

lundi

mardi

mercredi

jeudi

vendredi

samedi

dimanche

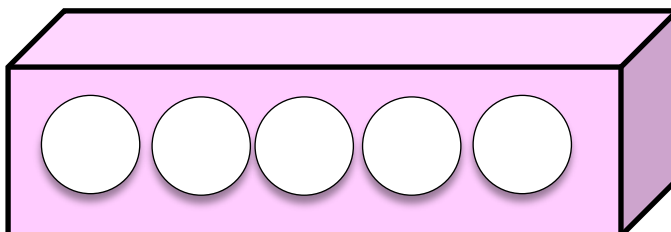
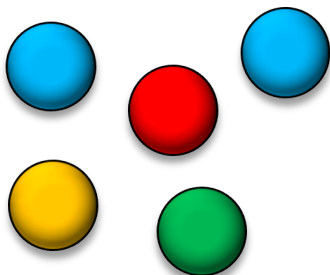


/

/



Aide Bazil à ranger ses 5 balles :  
Il y a deux balles entre les 2 balles bleues.  
Il y a une balle rouge à gauche de la verte.  
La balle jaune est placée au bout à droite.



Énigmes fiche 1 B CP

l'potâme.



# Énigmes

lundi mardi mercredi jeudi vendredi samedi dimanche


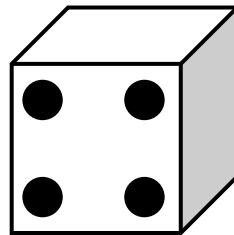

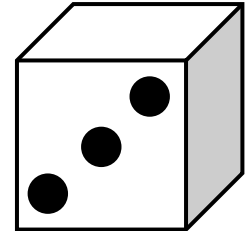
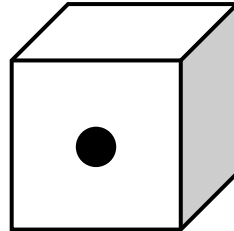



/

/



Kity a lancé 3 dés, elle a obtenu 8 points. Choisis les 3 bons dés.



Énigmes fiche 6 A CP

l'potâme.



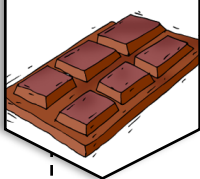
# Énigmes

lundi mardi mercredi jeudi vendredi samedi dimanche





/

/



Jordi a croqué la tablette de chocolat. Combien y avait-il de carrés dans cette tablette ?



Énigmes fiche 6 B CP

l'potâme.