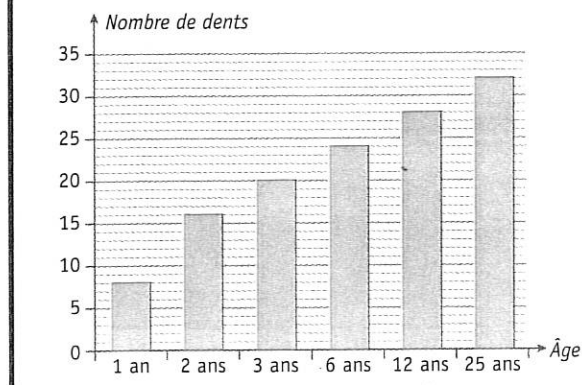


Utiliser un tableau, un graphique pour résoudre un problème

Cherchons

Nombre de dents en fonction de l'âge



● Combien de dents poussent chez un être humain entre 1 et 25 ans ?

Un graphique permet de représenter des informations chiffrées sous la forme d'une courbe, de bâtons, etc.



1 * **PROBLÈME** Mme Duchapiteau calcule le nombre de billets vendus chaque jour dans son cirque

Combien d'entrées de différence y a-t-il entre le jeudi et le samedi ?

.....

.....

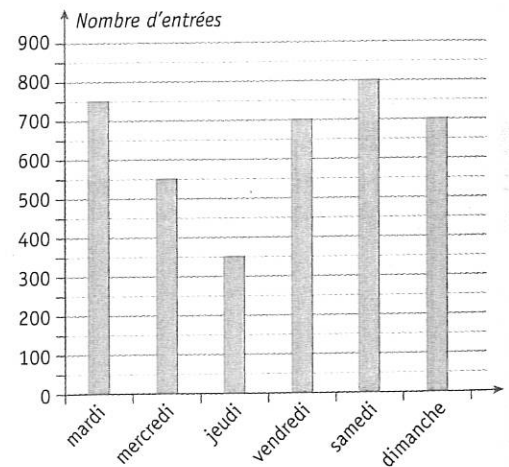
.....

.....

.....

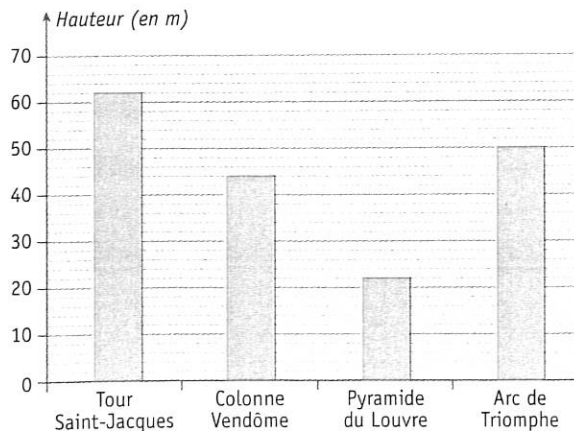
.....

Vente de tickets dans la semaine



2 * **PROBLÈME** Observe ce graphique.

Hauteur de monuments parisiens




Combien y a-t-il d'écart de hauteur entre l'Arc de Triomphe et la colonne Vendôme ?

.....

.....

.....

.....



La colonne Vendôme