


Calcul mental

• Soustractions
(Où vais-je barrer ?)




Dessine 6 fois 4 jetons.




Ici, en tout, j'ai dessiné jetons.

Dessine 4 fois 6 jetons.



Ici, en tout, j'ai dessiné jetons.

Dessine 6 rangées de 4 jetons.



Ici, en tout, j'ai dessiné jetons.

Que remarques-tu ? Saurais-tu l'expliquer en utilisant la boîte ci-dessous ?



Et si tu dessinais 50 fois 3 jetons et 3 fois 50 jetons, qu'observerais-tu ?

J'ai appris

Dans 6 fois 4, il y a le même nombre que dans 4 fois 6.
On le voit bien quand les groupes qu'on forme sont des rangées.
Ce nombre s'écrit 6×4 (« 6 multiplié par 4 »)
ou 4×6 (« 4 multiplié par 6 »).

Complète.



Ici, il y a fois craies.

Ce nombre s'écrit x ou x



Ici, il y a groupes de verres.

Ce nombre s'écrit x ou x



Ici, il y a fois bonbons.

Ce nombre s'écrit x ou x



Ici, il y a groupes de citrons.

Ce nombre s'écrit x ou x