

3...2...1...
5...4...3...2...1

LES NOMBRES

Les dizaines

6

Relie.

14



1 d 4 u

douze


12



1 d 2 u

seize

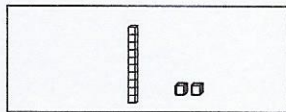
16



1 d 6 u

quatorze


18



1 d 0 u

dix

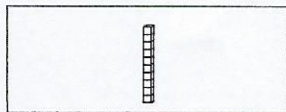
10



1 d 8 u

dix-sept


17



2 d 0 u

dix-huit

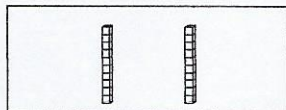
20



2 d 5 u

vingt

25



1 d 7 u

vingt-cinq

Prénom :

Date :

L'addition posée sans retenue 2

Calcul

1. Calcule ces additions :

$$\begin{array}{r} \text{d} \quad \text{u} \\ 1 \quad 5 \\ + 3 \quad 2 \\ \hline \cdot \quad \cdot \end{array}$$

$$\begin{array}{r} \text{d} \quad \text{u} \\ 2 \quad 7 \\ + 3 \quad 1 \\ \hline \cdot \quad \cdot \end{array}$$

$$\begin{array}{r} \text{d} \quad \text{u} \\ 5 \quad 3 \\ + 2 \quad 6 \\ \hline \cdot \quad \cdot \end{array}$$

$$\begin{array}{r} \text{d} \quad \text{u} \\ 4 \quad 0 \\ + 5 \quad 8 \\ \hline \cdot \quad \cdot \\ \cdot \end{array}$$

$$\begin{array}{r} 1 \quad 5 \\ + 2 \quad 1 \\ \hline \cdot \quad \cdot \end{array}$$

$$\begin{array}{r} 6 \quad 3 \\ + 2 \quad 1 \\ \hline \cdot \quad \cdot \end{array}$$

$$\begin{array}{r} 2 \quad 5 \\ + 5 \quad 3 \\ \hline \cdot \quad \cdot \end{array}$$

$$\begin{array}{r} 4 \quad 3 \\ + 5 \quad 0 \\ \hline \cdot \quad \cdot \end{array}$$

2. Pose et calcule ces additions :

$23 + 16 =$

$$\begin{array}{r} \cdot \quad \cdot \\ + \cdot \quad \cdot \\ \hline \cdot \quad \cdot \end{array}$$

$37 + 22 =$

$$\begin{array}{r} \cdot \quad \cdot \\ + \cdot \quad \cdot \\ \hline \cdot \quad \cdot \end{array}$$

$20 + 47 =$

$$\begin{array}{r} \cdot \quad \cdot \\ + \cdot \quad \cdot \\ \hline \cdot \quad \cdot \end{array}$$

$56 + 31 =$

$$\begin{array}{r} \cdot \quad \cdot \\ + \cdot \quad \cdot \\ \hline \cdot \quad \cdot \end{array}$$

$25 + 34 =$

$$\begin{array}{r} + \\ \hline \cdot \quad \cdot \end{array}$$

$83 + 5 =$

$$\begin{array}{r} + \\ \hline \end{array}$$

$13 + 55 =$

$$\begin{array}{r} + \\ \hline \end{array}$$

$22 + 66 =$

$$\begin{array}{r} + \\ \hline \end{array}$$

Prénom :

Date :

Problèmes de
transformation 2



Résolution de
problèmes

1

Sarah a marqué 5 points à la première partie du jeu. Elle a 16 points à la fin de la partie. Combien a-t-elle gagné de points ?

Je cherche :

Je note la solution :

2

Maman avait 12 €. Elle a trouvé un billet de 10 €. Combien a-t-elle d'argent maintenant ?

Je cherche :

Je note la solution :

3

Pierre avait 15 images avant la récréation. A la fin, il ne lui reste que 7 images. Combien en a-t-il perdu ?

Je cherche :

Je note la solution :

4

Pierre avait 6 roses dans son bouquet. Il en a encore cueilli 12. Combien a-t-il de roses dans son bouquet maintenant ?

Je cherche :

Je note la solution :